

中学校 社会 (2年)

年 組 番 氏名

■ 図1・図2は、それぞれある向きから見た地球儀を示したものです。緯線と経線は15度おきに引かれています。これを見て、次の問いに答えなさい。

図1

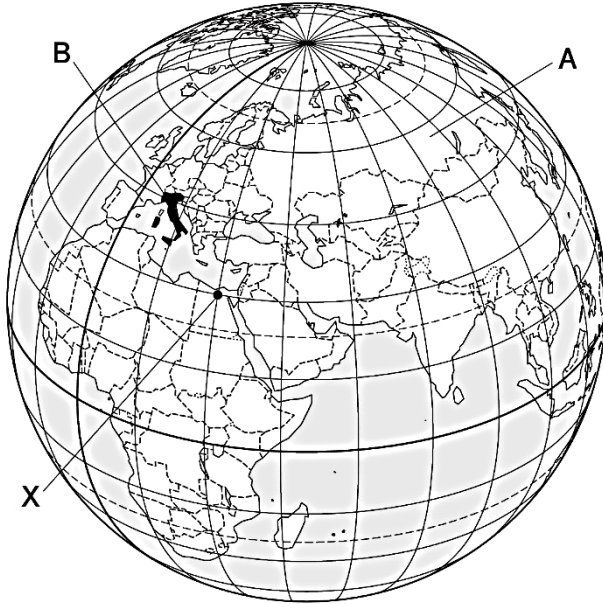
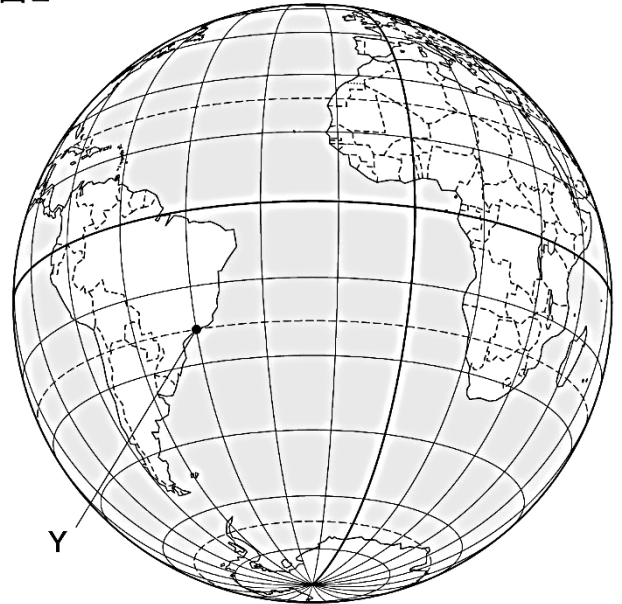


図2



(1) 図1を見て、次のア～ウの問いに答えなさい。

ア 図1中のAの大陸名を書きなさい。

イ 図1中のBの国が属する州名を書きなさい。

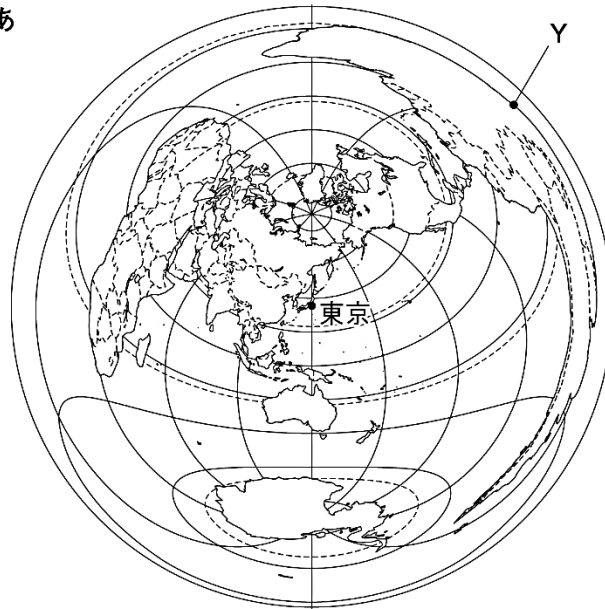
ウ 図1中のXの地点の位置を、次の□中のように緯度と経度で示した場合、(あ)、(い)にあてはまる語と数字の組み合わせとして正しいものを、あとの1～6から1つ選び、解答用紙の番号に○をつけなさい。

Xの地点の位置：北緯30度、(あ)経(い)度

- 1 あ 東    い 30
- 2 あ 東    い 45
- 3 あ 東    い 135
- 4 あ 西    い 30
- 5 あ 西    い 45
- 6 あ 西    い 135

(2) 図2は、図1とは異なる向きから見た地球儀です。図2中のYの地点が東京から見てどの方位に位置するかを調べようと思います。次のあ～うの地図のうち、どの地図を用いれば方位を知ることができますか。次のあ～うから1つ選び、解答用紙の記号に○をつけなさい。また、東京から見たYの地点の方位を8方位で書きなさい。(※Yは同じ地点を示している。)

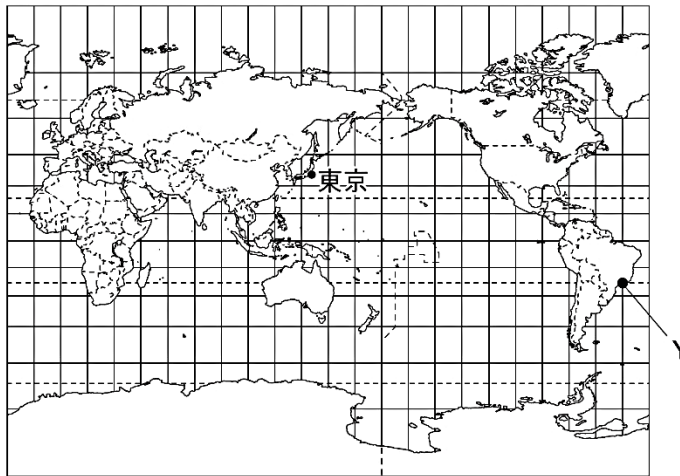
あ



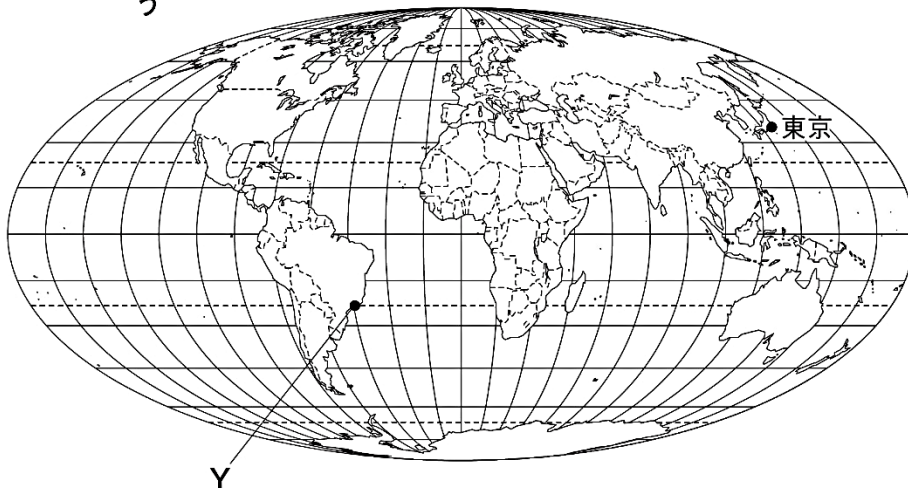
地図：

方位：

い



う



中学校 社会 (2年) [正答例]

年 組 番 氏名

1 図1・図2は、それぞれある向きから見た地球儀を示したものです。緯線と経線は15度おきに引かれています。これを見て、次の問いに答えなさい。

図1

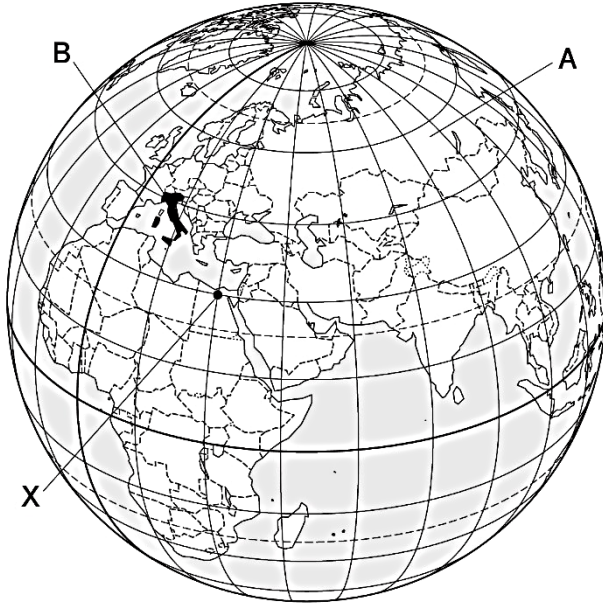
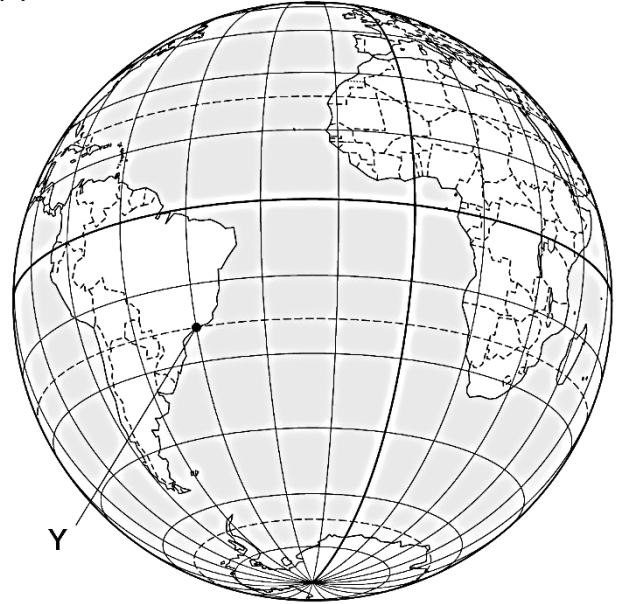


図2



(1) 図1を見て、次のア～ウの問いに答えなさい。

ア 図1中のAの大陸名を書きなさい。

ユーラシア (大陸)

イ 図1中のBの国が属する州名を書きなさい。

ヨーロッパ (州)

ウ 図1中のXの地点の位置を、次の□中のように緯度と経度で示した場合、(あ)、(い)にあてはまる語と数字の組み合わせとして正しいものを、あとの1～6から1つ選び、解答用紙の番号に○をつけなさい。

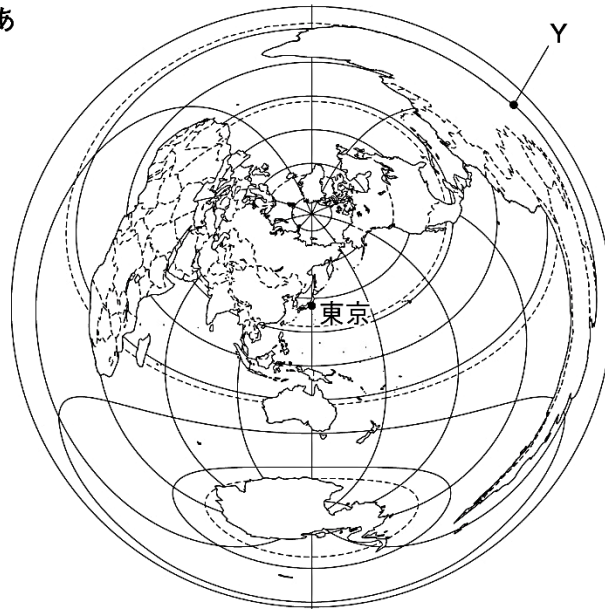
Xの地点の位置：北緯30度、(あ)経(い)度

- 1 あ 東 い 30
- 2 あ 東 い 45
- 3 あ 東 い 135
- 4 あ 西 い 30
- 5 あ 西 い 45
- 6 あ 西 い 135

1

(2) 図2は、図1とは異なる向きから見た地球儀です。図2中のYの地点が東京から見てどの方位に位置するかを調べようと思います。次のあ～うの地図のうち、どの地図を用いれば方位を知ることができますか。次のあ～うから1つ選び、解答用紙の記号に○をつけなさい。また、東京から見たYの地点の方位を8方位で書きなさい。(※Yは同じ地点を示している。)

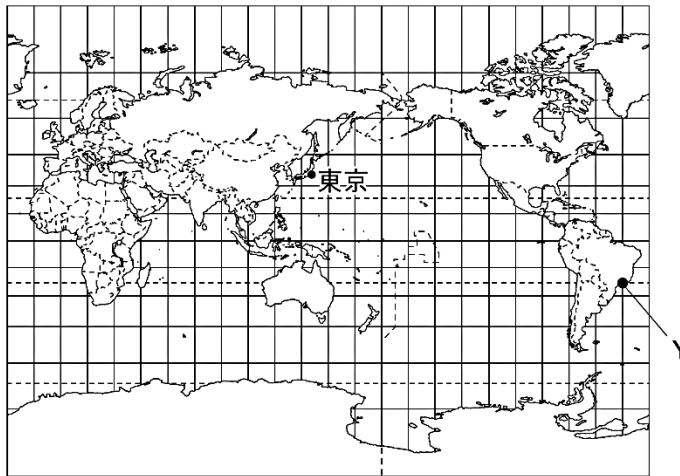
あ



地図： あ

方位： 北東

い



う

