


名前 ()

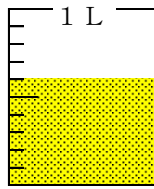
1 下の図で水のかさは、それぞれ何Lですか。(10点×3問)

(1)




L

(2)

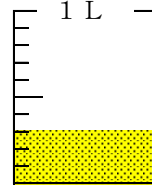


L

(3)



L



点

2 下の(1)(2)(3)の長さはそれぞれ何cmですか。(10点×3問)

(1)

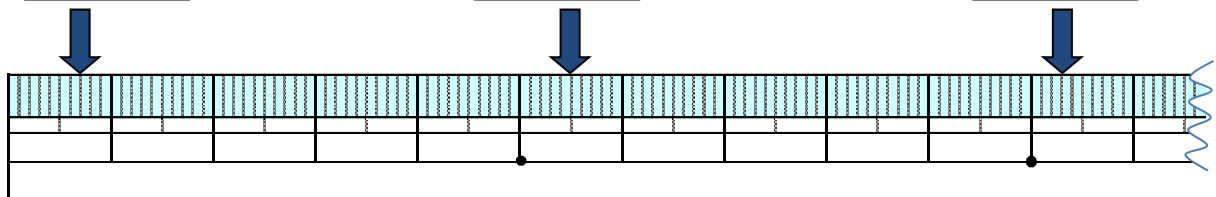
cm

(2)

cm

(3)

cm



3 □にあてはまる数をかきましょう。(10点×4問)

(1) 8 mm = cm

(2) 13 cm 7 mm = cm

(3) 5.2 L = L dL

(4) 12 L 7 dL = L



名前()

1 □にあてはまる不等号を書きましょう。(10点×4問)

(1) 0.5 0.7 (2) 2.4 3.1 点

(3) 3 0.9 (4) 7 7.2



2 ひっ算をしましょう。(10点×3問)

(1) $5.3 + 3.8$

(2) $6.5 - 3$

(3) $16 - 3.2$

3 8.3はどのような数ですか。それぞれのせつめいのあいているところにあてはまる数やことばを書きましょう。(10点×3問)

《せつめい①》

8.3は、 と をあわせた数です。

《せつめい②》

8.3は、 を 集めた数です。

《せつめい③》

8.3は、 です。