



模範解答

()年 ()組 ()番
名前 ()

1 数を書きましょう。

(10点×5問)

(1) 四万五千二百三十八

4 5 2 3 8

点

(2) 十五万六千九百九十三

1 5 6 1 9 3

(3) 千五百七十八万五千二十一

1 5 7 8 0 5 2 1

(4) 1000万を4こ、100万を2こ、10万を5こ、1万を8こあわせた数

4 2 5 8 0 0 0 0

(5) 207509は、十万を

2

こ、千を

7

こ、百を

5

こ、一を

9

こあわせた数です。

2 数を読みましよう。

(10点×3問)

(1) 120569

十二万五千六百九十九

(2) 7945305

七千九百四十五万三千三百五

(3) 20180000

二千十八万

3 次の問いに答えましよう。

(10点×2問)

(1) 1000を56こあつめた数はいくつですか。

5 6 0 0 0

(2) 47000000は10000を何こあつめた数ですか。

4 7 0 0 こ



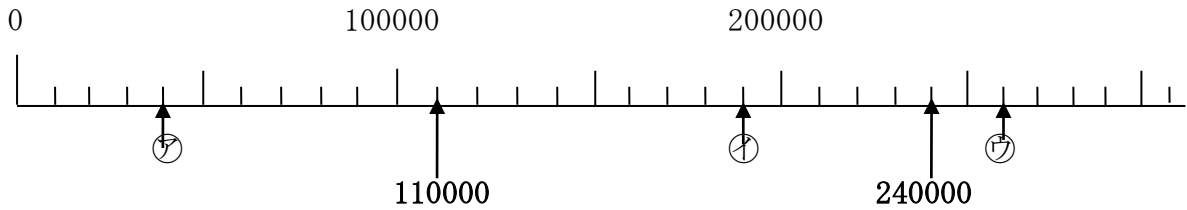


模範解答

()年()組()番
名前()

1 下の数直線のめもりを読みましょう。(10点×6問)

点



(1) 一番小さい1めもりはいくつですか。

1 0 0 0 0

(2) ㉞、㉝、㉛のめもりが表す数を書きましょう。

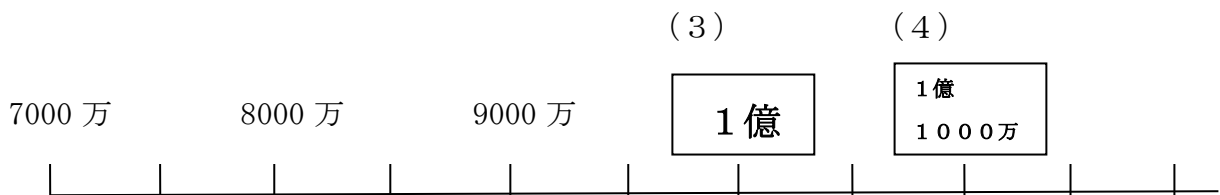
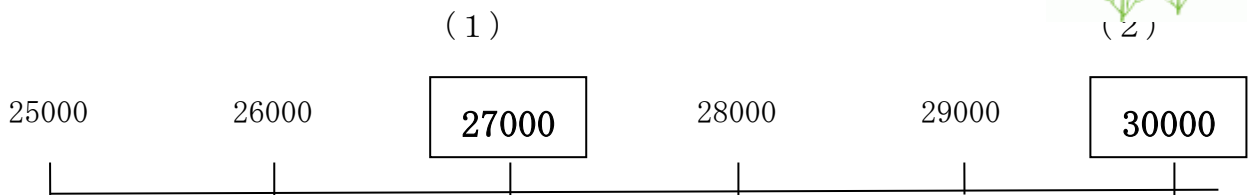
㉞ 4 0 0 0 0 ㉝ 1 9 0 0 0 0 ㉛ 2 6 0 0 0 0

(3) 110000、240000を表すめもりに↑を書きましょう。



2 □にあてはまる数を書きましょう。

(10点×4問)





模範解答

()年()組()番
名前()

1 □にあてはまる、等号(=)、不等号(> <)を書きましょう。
(10点×4問)

点

(1) 3000 < 7000

(2) 40000+60000 = 100000

(3) 600万 > 900万-500万

(4) 220万-120万 = 100万

2 次の数はいくつですか。(10点×4問)

(1) 67を10倍した数

(2) 549を100倍した数

(3) 400を10でわった数

(4) 980を10でわった数

3 ななさんたちは、43000という数を次のように表しました。□にあてはまる数を書きましょう。(完答20点)

43000は、
40000より


大きい数です。



なな

43000は、
40000と


を、あわせた数です。



あい

43000は、
1000を、

こ
あつめた数です。



ゆうと