



模範解答

()年()組()番

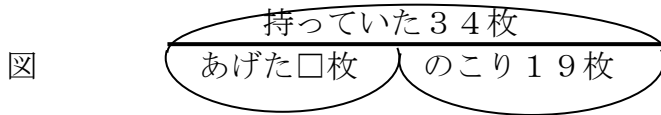
名前()

1 分からない数を□として、図と式に表わしてもとめましょう。

点

(1) おり紙を34枚持っていました。そのうち何枚かを友だちにあげたら、のこりが19枚になりました。あげたおり紙は何枚ですか。

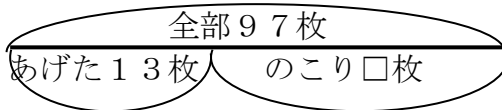
(図10点・式10点・答え5点)



式 $34 - 19$

答え 15枚

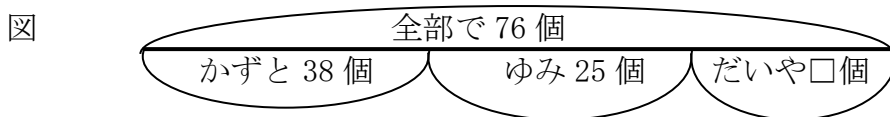
(2) かずとさんはカードを97枚持っていました。まみさんに13枚あげました。のこりは何枚ですか。(図10点・式10点・答え5点)



式 $97 - 13$

答え 84枚

(3) まみさんはアメをもらいました。かずとさんから38個、ゆみさんから25個、だいやさんから□個もらい、全部で76個になりました。まみさんは、だいやさんからアメを何個もらったのでしょうか。(図10点・式10点・答え5点)

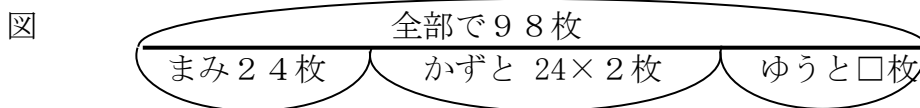


式 $76 - 38 - 25$

答え 13個

(4) かずとさん、まみさん、ゆうとさんのカードを全部合わせると98枚になります。まみさんはカードを24枚持っています。かずとさんはまみさんの2倍カードを持っています。ゆうとさんのカードは何枚ですか。

(図10点・式10点・答え5点)



式 $24 \times 2 (= 48)$

$98 - 24 - 48$

答え 26枚