

() 年 () 組 () 番
名前 ()

1 () にあてはまるたんいを書きましょう。(10点×4問)

(1) きょうしつをつくえの横の長さ…60 ()

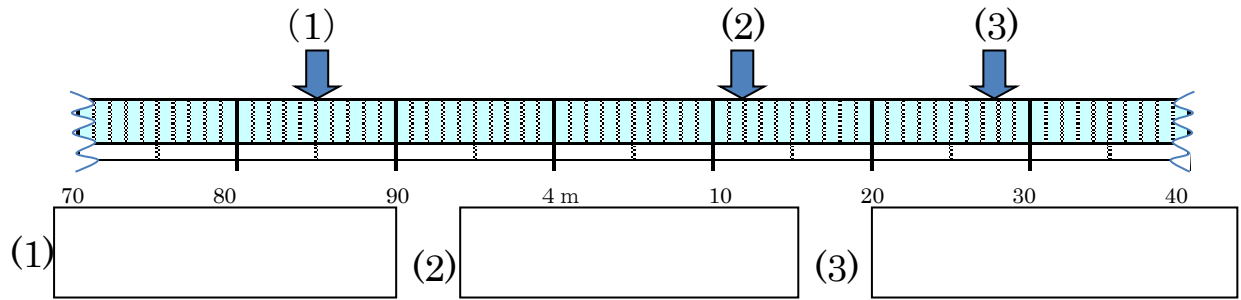
点

(2) 校ていにある木の高さ……………4 () 5 2 ()

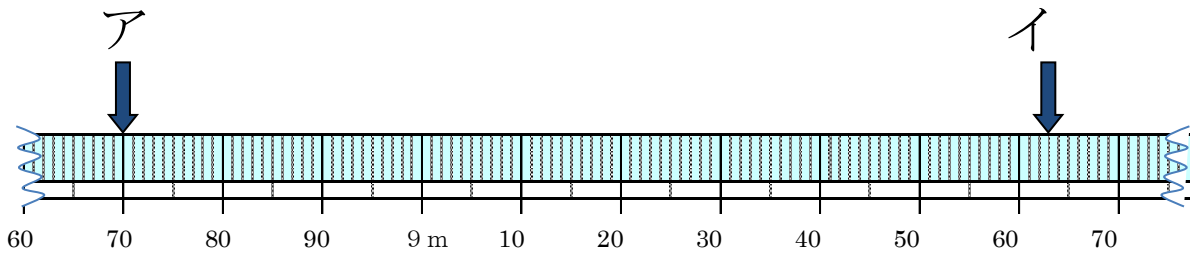
(3) 家から学校までの道のり……………1 () 4 5 0 ()

(4) 国語の教科書のあつさ……………7 ()

2 ↓ のメモリが表す長さを書きましょう。(10点×3問)



3 次のもんだいを考えましょう。(完答30点)



もんだい アからイの長さをもとめましょう。

① アの長さは [] m [] c m

② イの長さは [] m [] c m

③ イの長さーアの長さ→ []



答え

[]

()年()組()番

名前()

1 □にあてはまる数はいくつですか。(10点×3問)

(1) 2500m = km m

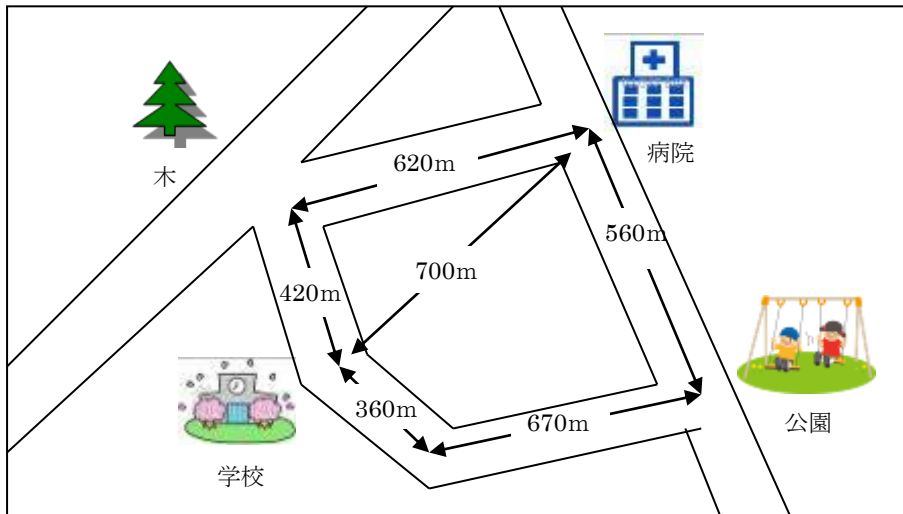
点

(2) 1km65m = m



(3) 5007m = km m

2 下の絵地図を見て、いろいろな長さをもとめましょう。(10点×式3問 答え4問)



(1) 学校から病院までのきよりは何mですか。

答え m

(2) 学校から病院までの道のりは何km何mですか。2通りの行き方でもとめましょう。

☆ 木の前を通る行き方
式

答え km m

☆ 公園の前を通る行き方
式

答え km m

(3) 絵地図の中のいろいろな長さを使って問題を作り、長さをもとめましょう。

問題

式

答え m

