

計算ドリル  
 ③ 21・22 ページ  
 ④ 41・42 ページ

18. ぼうグラフと表

- ② ぼうグラフ
- ③ 表のくふう



なまえ

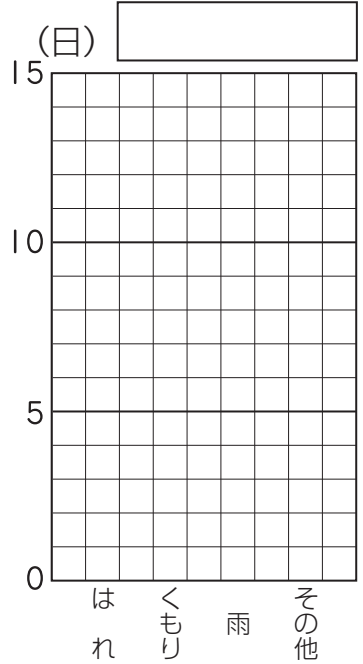
点

東3・Ⅲ

- 下の表は、12月の天気についてまとめたものです。この表をぼうグラフに表して、問題に答えましょう。(1つ10点)

12月の天気

天気	はれ	くもり	雨	その他	合計
日数(日)	14	9	3	5	( )



- ① 上の表の( )にあてはまる数を書きましょう。
- ② それぞれの天気の日数にあわせて、ぼうをかきましょう。
- ③  に表題を書きましょう。
- ④ 12月の中でいちばん多かった天気は何ですか。( )

- 右の表は、3年生全員のいちばんすきなラーメンのしゅるいを、組ごとに調べたものです。(⑤はア～ウそれぞれ1つ10点、⑥～⑧は1つ10点)

- ⑤ 表の(ア)～(ウ)にあてはまる数を書きましょう。
- ⑥ 2組で、みそラーメンが好きな人は何人ですか。( )
- ⑦ 3年生全体で、とんこつラーメンが好きな人は何人ですか。( )
- ⑧ 組の人数がいちばん多いのは、何組ですか。( )

すきなラーメンのしゅるい(3年生)(人)

しゅるい \ 組	1組	2組	3組	合計
しょうゆ	11	12	10	33
みそ	8	7	12	(ア)
とんこつ	6	8	7	21
しお	4	3	3	10
その他	5	3	3	11
合計	34	33	(イ)	(ウ)

答え

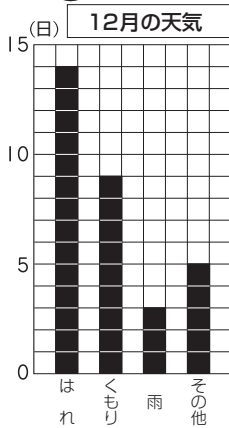


計算ドリル  
③ 21・22 ページ  
④ 41・42 ページ

18. ぼうグラフと表

- ② ぼうグラフ
- ③ 表のくふう

③



②

- ① 31
- ④ はれ
- ⑤ ア27 イ35 ウ102
- ⑥ 7人 ⑦ 21人
- ⑧ 3組

まちがえた  
もんだい  
問題をかくにん  
してみよう!



18. ぼうグラフと表

- ② ぼうグラフ
- ③ 表のくふう

なまえ

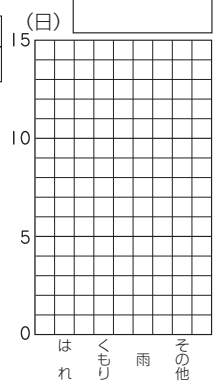


点

● 下の表は、12月の天気についてまとめたものです。この表をぼうグラフに表して、問題に答えましょう。(1つ10点)

12月の天気

天気	はれ	くもり	雨	その他	合計
日数(日)	14	9	3	5	( )



- ① 上の表の( )にあてはまる数を書きましょう。
- ② それぞれの天気の日数にあわせて、ぼうをかきましよう。
- ③ ( )に表題を書きましよう。
- ④ 12月の中でいちばん多かった天気は何ですか。( )

● 右の表は、3年生全員のいちばん好きなラーメンのしゅるいを、組ごとに調べたものです。(⑤はア～ウそれぞれ1つ10点、⑥～⑧は1つ10点)

- ⑤ 表の⑦～⑨にあてはまる数を書きましよう。
- ⑥ 2組で、みそラーメンが好きな人は何人ですか。( )
- ⑦ 3年生全体で、とんこつラーメンが好きな人は何人ですか。( )
- ⑧ 組の人数がいちばん多いのは、何組ですか。( )

好きなラーメンのしゅるい(3年生)(人)

しゅるい \ 組	1組	2組	3組	合計
しょうゆ	11	12	10	33
みそ	8	7	12	⑦
とんこつ	6	8	7	21
しお	4	3	3	10
その他	5	3	3	11
合計	34	33	⑧	⑨