



()年 ()組 ()番
名前 ()

1 数を書きましょう。

(10点×5問)

(1) 四万五千二百三十八

点

(2) 十五万六千百九十三

(3) 千五百七十八万五千二十一

(4) 1000万を4こ、100万を2こ、10万を5こ、1万を8こあわせた数

(5) 207509は、十万を こ、千を こ、百を こ、一を こあわせた数です。

2 数を読みましょう。

(10点×3問)

(1) 120569

(2) 7945305

(3) 20180000

3 次の問いに答えましょう。

(10点×2問)

(1) 1000を56こあつめた数はいくつですか。

(2) 47000000は10000を何こあつめた数ですか。

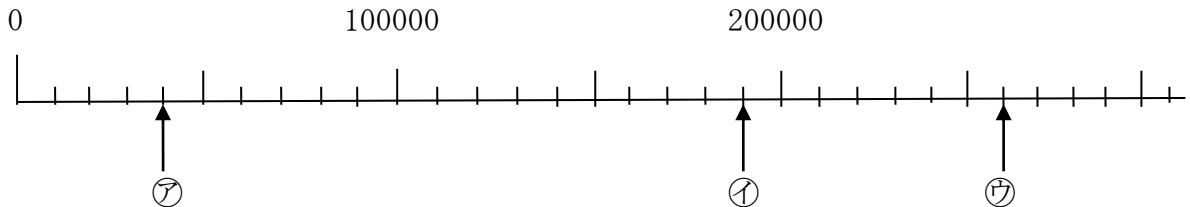




()年()組()番
名前()

1 下の数直線のめもりを読みましょう。(10点×6問)

点



(1) 一番小さい1めもりはいくつですか。

□

(2) ア、イ、ウのめもりが表す数を書きましょう。

ア □

イ □

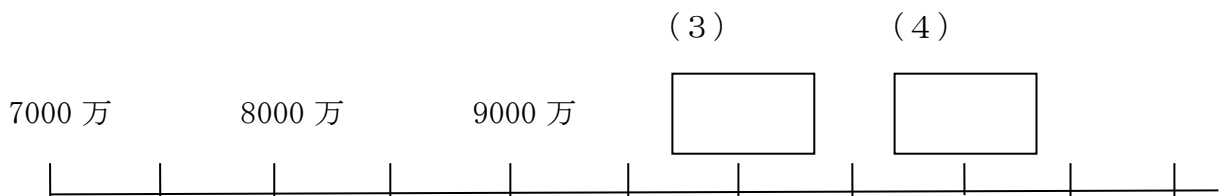
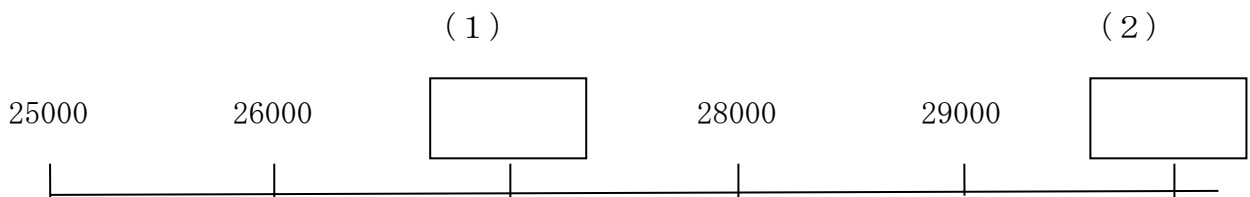
ウ □

(3) 110000、240000を表すめもりに ↑ を書きましょう。



2 □にあてはまる数を書きましょう。

(10点×4問)





()年 ()組 ()番
名前 ()

1 □にあてはまる、等号 (=)、不等号 (> <) を書きましょう。
(10点×4問)

点

(1) 3000 □ 7000

(2) 40000+60000 □ 100000

(3) 600万 □ 900万-500万

(4) 220万-120万 □ 100万

2 次の数はいくつですか。(10点×4問)

(1) 67を10倍した数

(2) 549を100倍した数

(3) 400を10でわった数

(4) 980を10でわった数

3 ななさんたちは、43000という数を次のように表しました。□にあてはまる数を書きましょう。(完答20点)

43000は、
40000より


大きい数です。



なな


43000は、
40000と

を、あわせた数です。



あい

43000は、
1000を、
こ
あつめた数です。



ゆうと