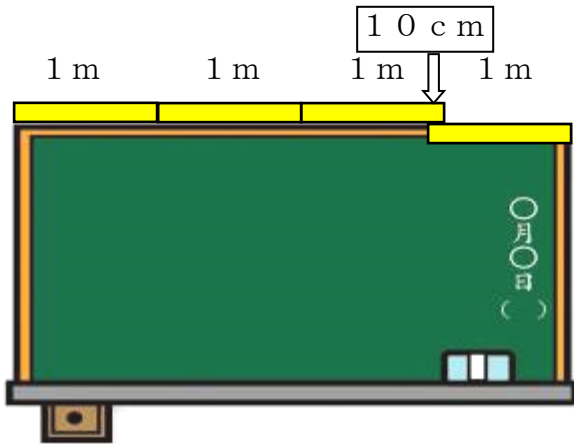


名前()

- 1 1 mものさしを4本使って黒板の横の長さをはかりました。3本はそのままつなぎ、3本目と4本目が10 cm重なりました。黒板の横の長さをもとめましょう。

(考え方10点・答え20点)

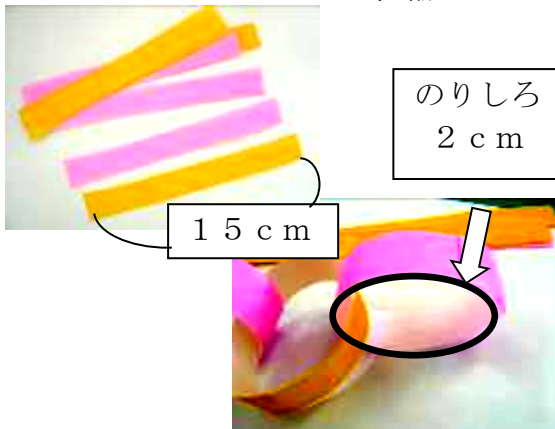


点

考え方

- 2 おり紙の一边の長さは15 cmです。たてに8等分して、輪かざりを作ります。のりしろを2 cmとると、輪かざりのまわりの長さは何 cmになりますか。

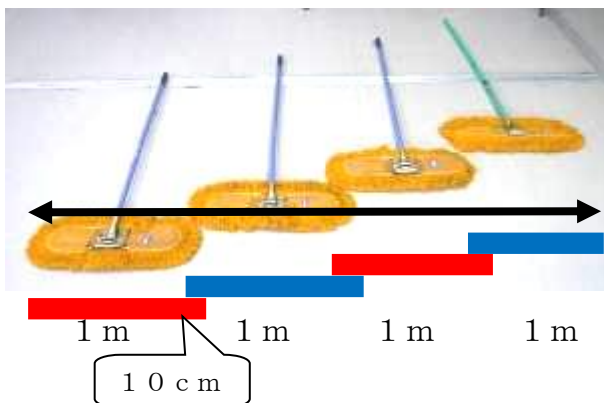
(考え方10点・答え20点)



考え方

- 3 体育館をはば1 mのモップでモップがけをします。となりのモップと少し重なるとききれいになります。4人で10 cmずつ重ねると、4人全体のはばは何m何 cmになりますか。

(考え方20点・答え20点)



考え方

答え ()