



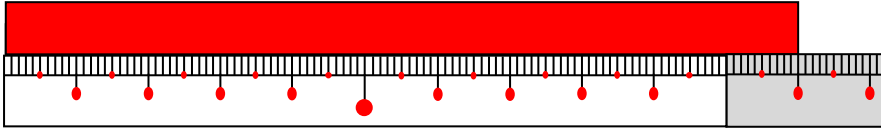
()年()組()ばん

模範解答

名前()

1 テープの 長さは 何m何cm ですか。(10点×2問)

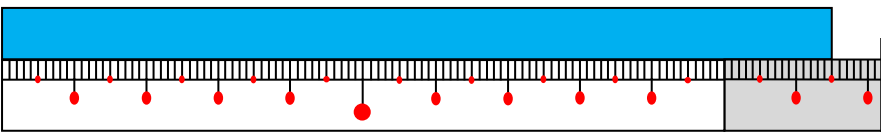
(1)



1 m 10 cm

点

(2)




1 m 15 cm

2 同じ 長さを みつけて せんで むすびましょう。(10点×6)

(10点×6)



1 m



180 cm



1 m 18 cm



100 cm



1 m 10 cm



192 cm



1 m 80 cm



118 cm



1 m 92 cm



108 cm



1 m 08 cm



110 cm



3 こくばんの よこの 長さを はかるには どの ものさしを つかえば よいでしょうか。ア、イから 1つ えらんで ○をつけ、その わけも かきましょう。(20点)

ア 30cmの ものさしを つかう。

イ 1mの ものさしを つかう。

《わけ》

(例) はかる回数が少なく、かたんに、はかることができる。



()年()組()ばん

模範解答

名前()

1 □にあてはまる数や長さのたんいをかきましょう。(10点×8問)

点

(1) 2 m = 200 cm

1 mは100 cm だったね。

(2) 1 m 8 cm = 108 cm



(3) 300 cm = 3 m

たんいは mm、cm、mを べんきょう したね。

(4) 103 cm = 1 m 3 cm

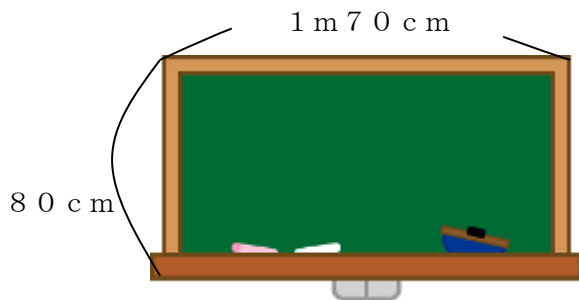
(5) つくえの たての 長さ ... 40 cm

(6) 算数の 本の あつさ ... 6 mm

(7) きょうしつの たての 長さ ... 8 m

(8) はがきの よこの 長さ ... 10 cm

2 黒ばんの たての長さと よこの長さを はかりました。 どちらが どれだけ 長いでしょうか。(式10点, 答え10点)



しき

1 m 70 cm = 170 cm
170 - 80

こたえ

黒ばんのよこの長さが90 cm長い

