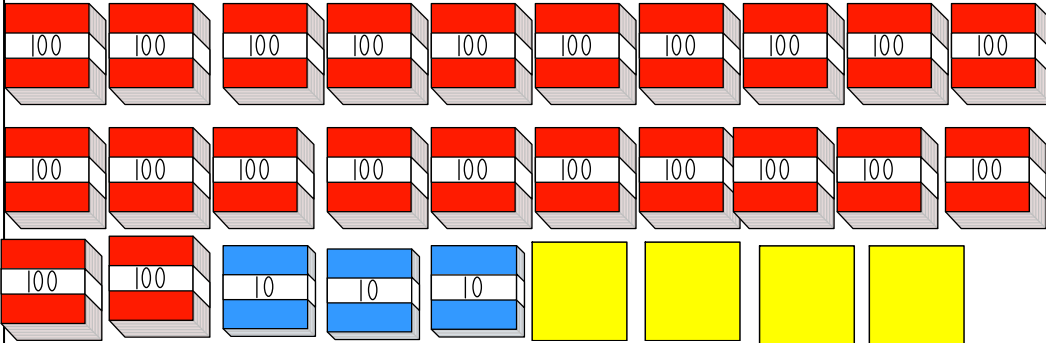




模範解答

名前 ()

1 かずを かぞえましょう。(10点×2問)



点

(1) 100のまとまりは なんこありますか。

22

こ

(2) ()にすうじを かきましょう。

1000が(2)こ、100が(2)こ、10が(3)こ
1が(4)こ、あわせて(2234)こ

2 つぎの かずを よみましょう。(10点×4問)

(1) 1859

千八百五十九

(2) 6043

六千四十三

(3) 7008

七千八

(4) 5150

五千百五十

3 すうじで かきましょう。(10点×2問)

(1) 千八百二十六 (1826)

(2) 五千百七 (5107)

4 次の もんだいに こたえましょう。(わけ10点, 答え10点)
二千四十八を248とかきました。

まちがっているわけをかいて、ただしいこたえを かきましょう。

わけ



<くれい>百のくらのすうじがないときは、0をかくの、かいてい
ないから。

ただしい こたえ

2048



模範解答

名前()

1 かずを こたえましょう。(10点×4問)

点

(1) 1000を7こ、100を4こ、1を2こ あわせたかず

7402

(2) 1000を1こ、10を5こ、1を8こ あわせたかず

1058

(3) 6030は、1000を こ、10を

こ あわせた かず。

(4) 5620は、5000と600と20を あわせた かずです。これを しきにあらわしましょう。

5620 = + +

2 に あてはまる >、< を かきましょう。(10点×2問)

(1) 7000 6990 (2) 8348 8279

3 かずを かきましょう。(10点×3問)

(1) 5800は 100を なんこ あつめた かずですか。

(2) 8000は 100を なんこ あつめた かずですか。

(3) 100を 45こ あつめた かずは いくつですか。

4 4けたの かずを かいた カードが あります。ただし、1つのすうじが みえません。

どちらが おおきいか かんがえ、 せつめいしましょう。(10点)

㊦ と ㊧

<れい>㊦と㊧が百のくらいが0でも、十のくらいが、㊧のほうが おおきい
ので、㊧のカードがおおきい。



模範解答

名前 ()

1 けいさんを しましょう。(10点×4問)

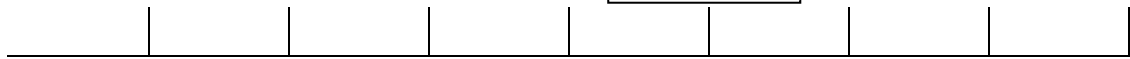
点

(1) $600 + 500 = 1100$ (2) $400 + 900 = 1300$

(3) $1000 - 200 = 800$ (4) $900 - 300 = 600$

2 したの すうちょくせんに あてはまる かずを かきましょう。(10点×3問)

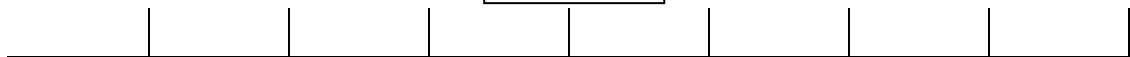
(1) 3400 3500 3700 3900 4000



(2) 2350 2360 2380 2390



(3) 7500 8500 9000 9500 10000



3 あと いくつで 10000に なりますか。(10点×2問)

(1) 9900 100 (2) 9990 10

すうちょくせんの、いちばん ちいさい 1めもりをみつけて かんがえよう。



4 しんじさんは、したの すうちょくせんで □に あてはまる かずが7700だと かんがえました。その わけを かきましょう。(10点)

<れい>すうちょくせんの 1めもりが 10になっているので、

10ずつ おおきくなり 7700になる。

7650 7660 7680 7690

