

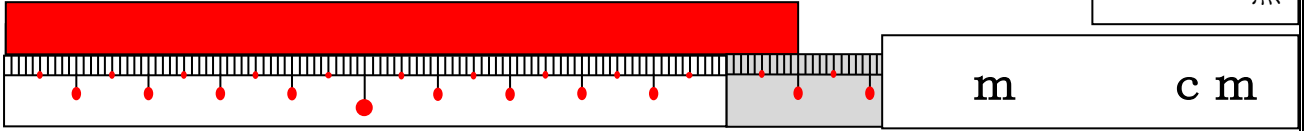


() 年 () 組 () ばん

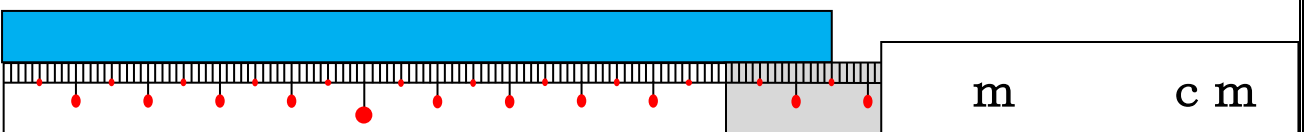
名前 ()

1 テープの 長さは 何m何cm ですか。 (10点×2問)

(1)



(2)



2 同じ 長さを みつけて せんで むすびましょう。

(10点×6)



1 m ●

● 1 8 0 c m



1 m 1 8 c m ●

● 1 0 0 c m



1 m 1 0 c m ●

● 1 9 2 c m



1 m 8 0 c m ●

● 1 1 8 c m



1 m 9 2 c m ●

● 1 0 8 c m



1 m 0 8 c m ●

● 1 1 0 c m



3 こくばんの よこの 長さを はかるには
 どの ものさしを つかえば よいでしょうか。
 ア、イから 1つ えらんで ○をつけ、
 その わけも かきましょう。

- ア 30cmの ものさしを つかう。
- イ 1mの ものさしを つかう。

《わけ》



() 年 () 組 () ばん

名前 ()

1 □に あてはまる 数や 長さの たんいを かきましょう。
(10点×8問)

点

(1) 2 m = c m

(2) 1 m 8 c m = c m

(3) 3 0 0 c m = m

(4) 1 0 3 c m = m c m

(5) つくえの たての 長さ . . . 4 0

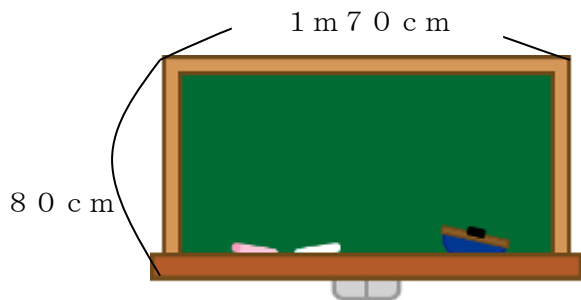
(6) 算数の 本の あつさ . . . 6

(7) きょうしつの たての 長さ . . . 8

(8) はがきの よこの 長さ . . . 1 0



2 黒ばんの たての長さと よこの長さを はかりました。
どちらが どれだけ 長いでしょうか。 (式10点, 答え10点)



しき

こたえ

