


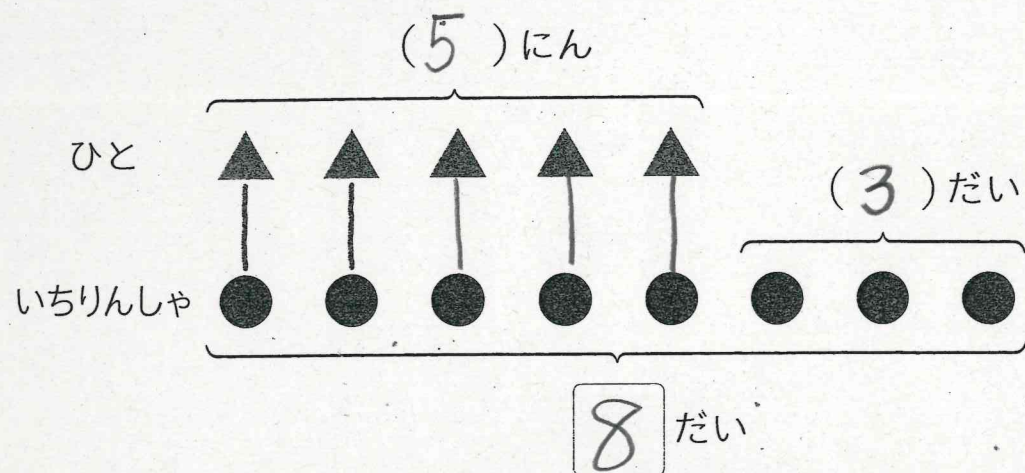
月 日 () ずをつかってかんがえよう

むんだい

5人が一りん車にのっています。
一りん車は、あと3だいあります。
一りん車は、ぜんぶでなんだいありますか。



ず



- ① 上のずの ▲ と ● を せんで むすびましょう。
- ② 上のずの () と □ に、あてはまるかずをかきましょう。
- ③ しきを かいて、こたえを もとめましょう。

しき $5 + 3 = 8$

こたえ 8 だい

💡 ヒント… 人がのっている一りん車は、5だいだね。
こたえになるのは、ずの ● のところだよ。

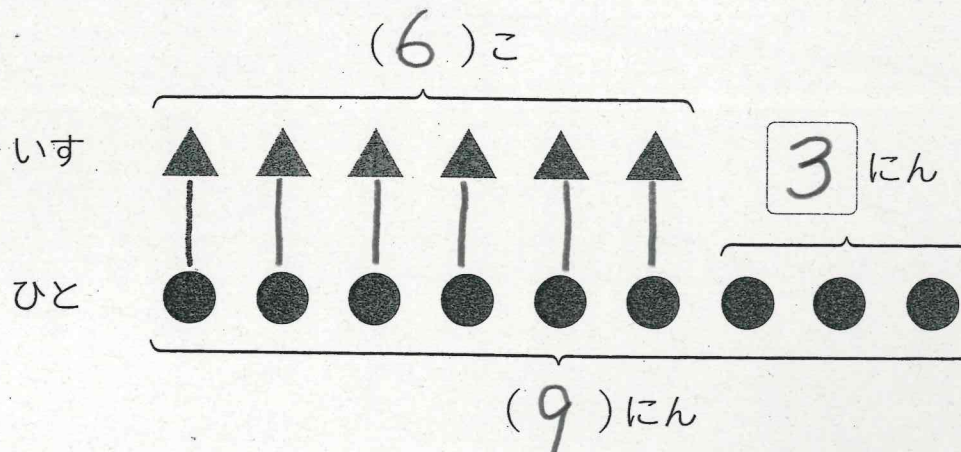
No. 1 名まえ

むんだい

いすが6こあります。
9人でいすとりゲームをします。
いすにすわれない人は、なん人ですか。



ず



- ① 上のずの ▲ と ● を せんで むすびましょう。
- ② 上のずの () と □ に、あてはまるかずをかきましょう。
- ③ しきを かいて、こたえを もとめましょう。

しき $9 - 6 = 3$

こたえ 3 人

💡 ヒント… いすにすわれる人は、6人だね。
こたえになるのは、ずのどこのふぶんかな。