
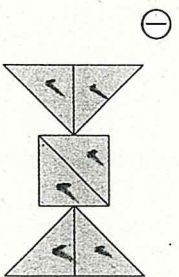


かたち② B

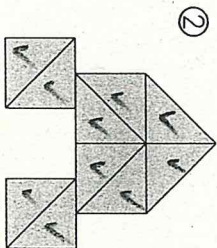
なまえ

技能

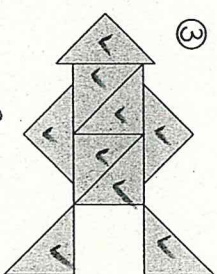
□ ①～③は  の いろいけが なんまいで できていますか。(5×3)



(6) まい

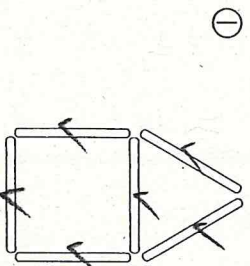


(10) まい

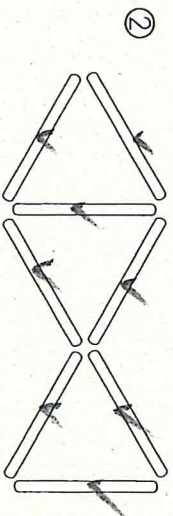


(9) まい

□ ①, ②は ぼうが なんぼんで できていますか。(5×2)



(6) ぼん



(8) ぼん

□ ①～⑤を つないで おなじ かたちを かきましょう。(5×5)

