

1 ○で かこみましょう。


① 左から 4ひきのあり。



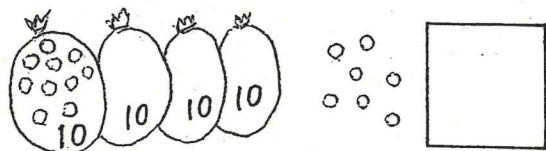
② 右から 3こめのダルマ。



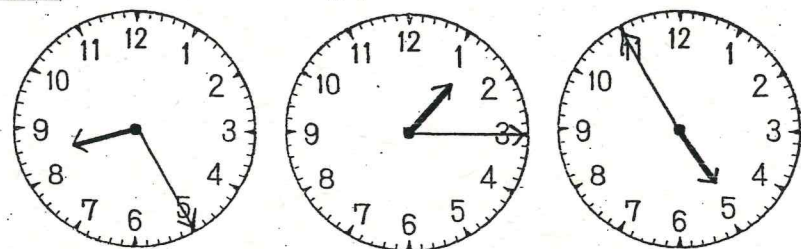
2 さくらんぼけいさんをしましょう。



3 かずを かぞえましょう。

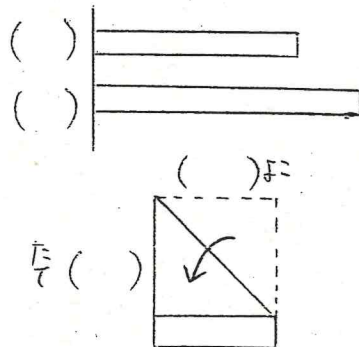


4 とけいをよみましょう。



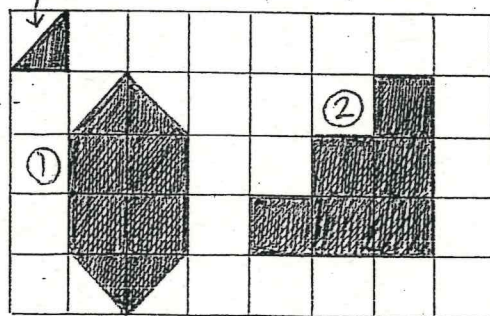
Three empty boxes for writing the times.

5 ながいほうに ○を付けましょう。




6 つぎのかたちをつくるためには

①のいろいろなは なんまいありますか。

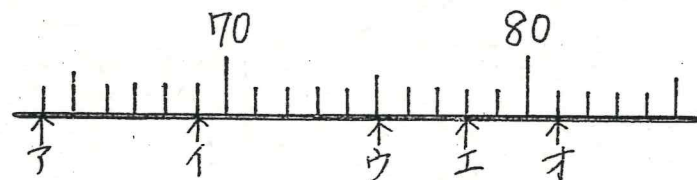


① まい ② まい

7 大きいほうに ○を付けましょう。




8 やじるしのかずをかきましょう。



子 い う え お

9 □の中にかずをかきましょう。

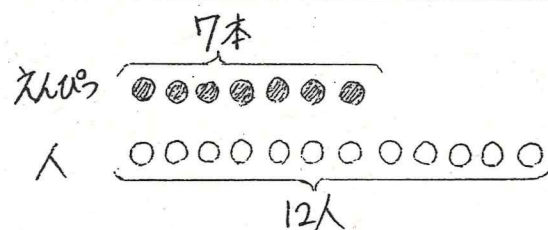


10 けいさんをしましょう。

- ① $7 + 5 =$ ② $16 - 9 =$ ③ $5 + 9 - 8 =$
- ④ $5 + 8 =$ ⑤ $11 - 6 =$ ⑥ $12 - 7 + 4 =$
- ⑦ $8 + 7 =$ ⑧ $13 - 7 =$ ⑨ $7 + 6 - 3 =$
- ⑩ $9 + 5 =$ ⑪ $12 - 6 =$ ⑫ $11 - 8 + 9 =$

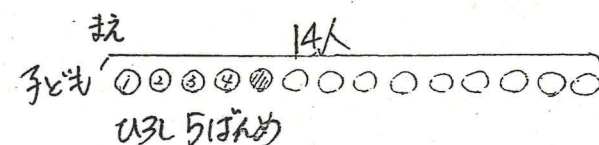
11 文しょうをよんで ずをわかって かんがえましょう。

① えんぴつが 7本あります。一人に 1本ずつ、12人にくばります。えんぴつが もらえない人は 何人ですか。



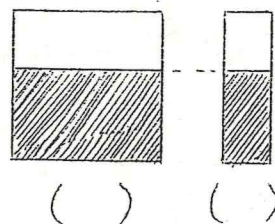
き _____

② 14人の子どもが バスをまわっています。ひろしさんは 3番から 5番めにいます。ひろしのうしろには 何人いますか。



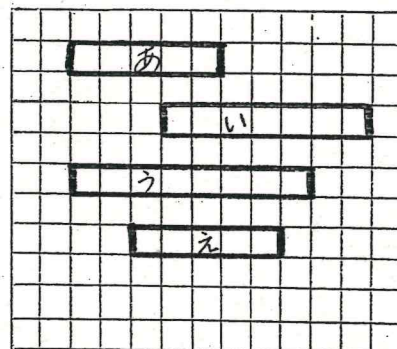
き _____

12 おおく 入っているほうに ○を付けましょう。



() ()

13 ながさをくらべましょう。



あは ぶん。 いは ぶん。

うと えでは どちらが どの ぶん ながいですか。

が ぶん ながい。