


# 1本きょう甲プリント(1) 名まえ


プリントは、新学期に提出する必要はありません。御家庭で活用してください。

1 ○でかこみましょう。

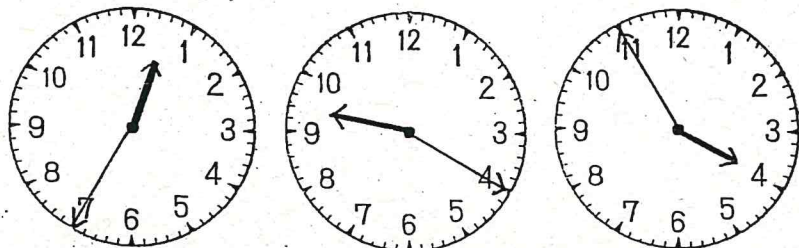
① 右から4こめのこま。



② 左から5ひきのラクダ。



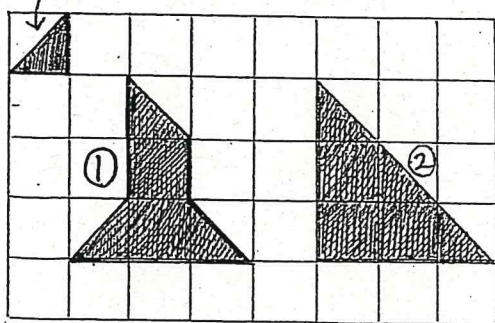
4 とけいをよみましょう。



12じ35ぶん 9じ20ぶん 3じ55ぶん

6 つぎのかたちをつくるためには

①のいろいろなは なんまいありますか。




① 7まい ② 9まい


9 □の中にかずをかきましょう。

3 4 5 6 7 8 9

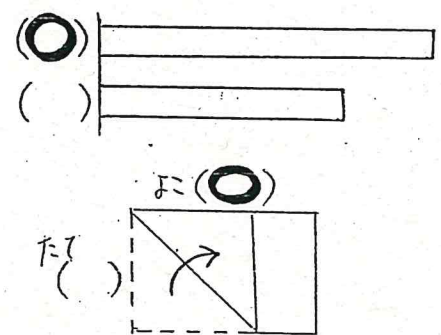
2 さくらんぼけいさんをしましょう。



3 かずをかぞえましょう。



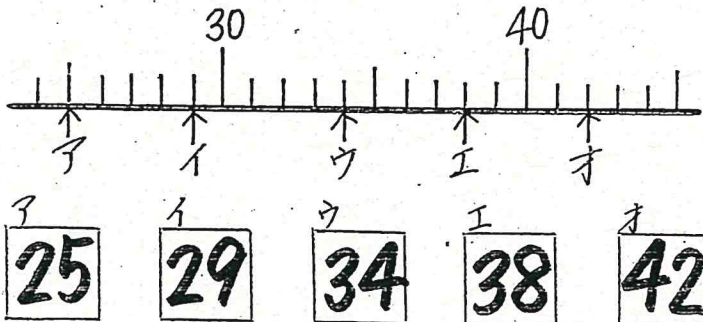
5 ながいほうに○をつけましょう。



7 大きいほうに○をつけましょう。

① 52 49 ② 63 71

8 やじるしのかずをかきましょう。

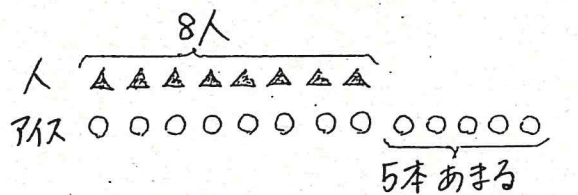


10 けいさんをしましょう。

- ①  $9 + 5 = 14$  ②  $17 - 8 = 9$  ③  $\frac{3 + 12}{15} - 8 = 7$
- ④  $6 + 8 = 14$  ⑤  $11 - 4 = 7$  ⑥  $\frac{13 - 7}{6} + 2 = 8$
- ⑦  $5 + 7 = 12$  ⑧  $13 - 5 = 8$  ⑨  $\frac{8 + 6}{14} - 5 = 9$
- ⑩  $8 + 3 = 11$  ⑪  $12 - 9 = 3$  ⑫  $\frac{11 - 6}{5} + 9 = 14$

11 文しょうをよんでずをつかてかんがえましょう。

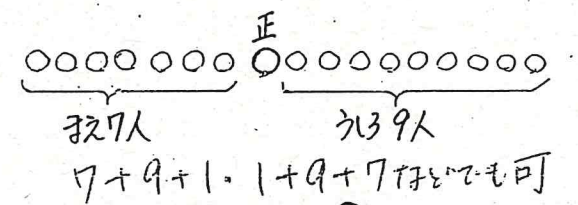
① 8人が1本ずつアイスを食べるとアイスは5本あまります。アイスはぜんぶでなん本ありますか。



は  $8 + 5 = 13$

たえ 13本

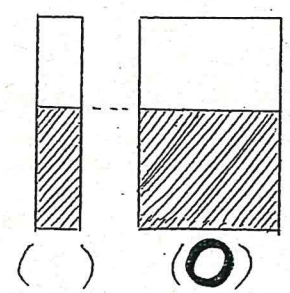
② 正さんのおにに7人、うしろに9人おらんではいます。ぜんいんでなん人がいますか。



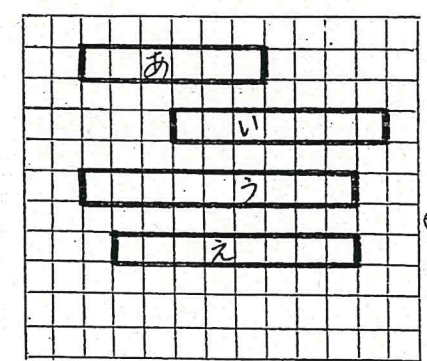
は  $7 + 1 + 9 = 17$

たえ 17人

12 おおく入っているほうに○をつけましょう。



13 ながさをくらべましょう。



まのいくつかぶんのながさですか。

① あは 6ぶん。

② いは 7ぶん。

③ うとえではどちらがまのいくつかぶんのながいしょうか。

うが 1ぶんながい。