


休みのプリント(3) 名まえ


ポイントは、新学期に提出する必要はありません。御家庭で活用してください。

1 ○でかこみましょ。

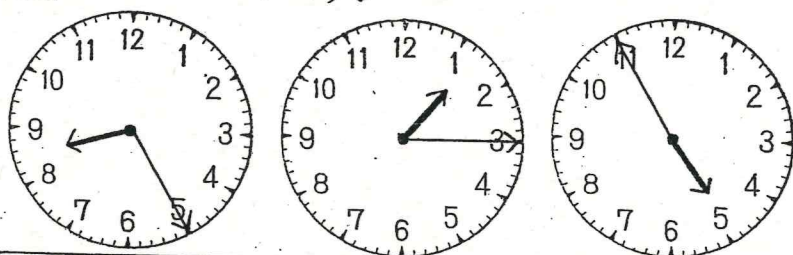
① 左から4ひきのあり。



② 右から3こめのダルマ。



4 とけいをよみましょ。



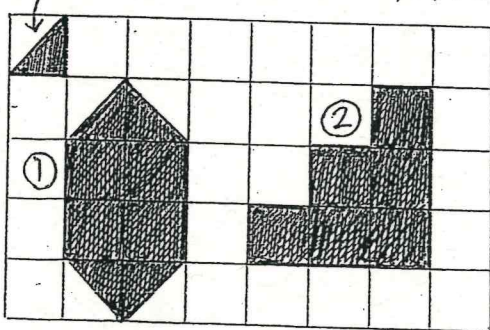
8じ25ぶん

1じ15ぶん

4じ55ぶん

6 つぎのかたあをつくるためには

あ)のいろいたは なんまいですか。




① 12まい ② 12まい

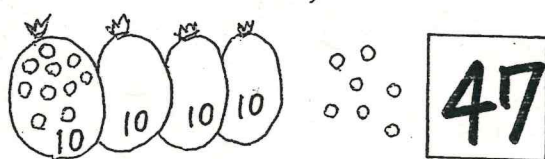
9 □の中にかずをかきましょ。

10 — 12 — 14 — 16 — 18 — 20 — 22

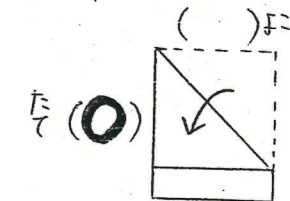
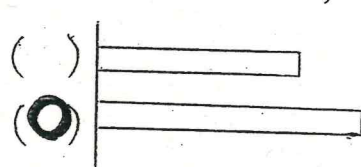
2 さくらんぼけいさんをしましょ。



3 かずをかぞえましょ。



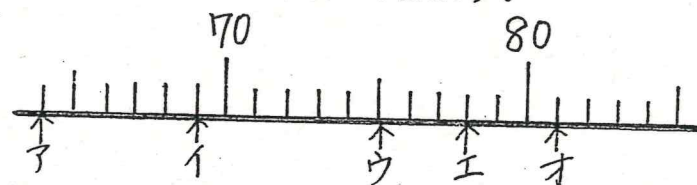
5 ながいほうに○をつけましょ。



7 大きいほうに○をつけましょ。

① 93 — 79 ② 65 — 81

8 やじるしのかずをかきましょ。



70 80
ア イ ウ エ オ
64 69 75 78 81

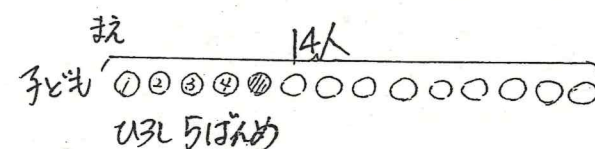
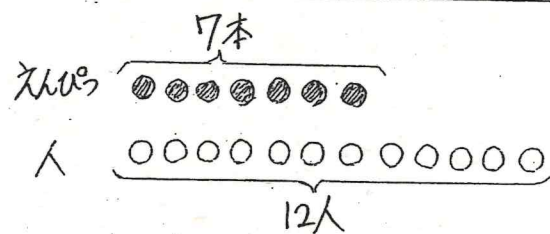
10 けいさんをしましょ。

- ① $7 + 5 = 12$ ② $16 - 9 = 7$ ③ $\frac{5 + 9}{14} - 8 = 6$
- ④ $5 + 8 = 13$ ⑤ $11 - 6 = 5$ ⑥ $\frac{12 - 7}{5} + 4 = 9$
- ⑦ $8 + 7 = 15$ ⑧ $13 - 7 = 6$ ⑨ $\frac{7 + 6}{13} - 3 = 10$
- ⑩ $9 + 5 = 14$ ⑪ $12 - 6 = 6$ ⑫ $\frac{11 - 8}{3} + 9 = 12$

11 文しょうをよんでずをつかてかんがえましょ。

① えんぴつが7本あります。一人に1本ずつ、12人にくばります。えんぴつがもらえない人は何人ですか。

② 14人の子どもがバスをまっています。ひろしさんはまえから5ばんめになります。ひろしのうしろには何人いますか。



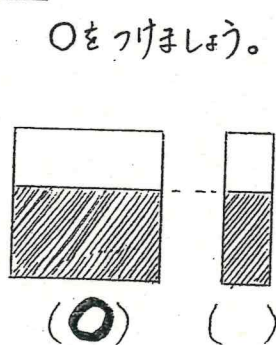
しき $12 - 7 = 5$

しき $14 - 5 = 9$

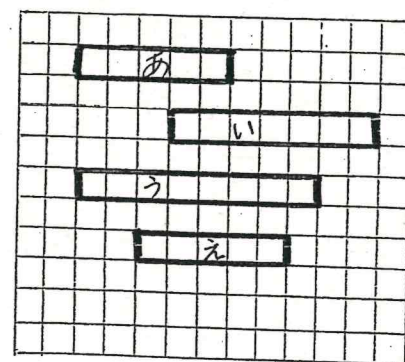
こたえ 5人

こたえ 9人

12 おおく入っているほうに○をつけましょ。



13 ながさをくらいましょ。



まつのいくつかぶんのながさですか。

① あは 5 ぶん。
② いは 7 ぶん。

③ うと えではどちらがまつのいくつかぶんのながさですか。
うが 3 ぶんながい。