












# ひょうじグラフ A

**技能**

● なちさんのクラスで、すきなくだものを 1人 1つずつ えらびました。

りんご	みかん	いちご	ぶどう	もも	バナナ	りんご	みかん	いちご	ぶどう	もも
										

① くだものの数を ○をつかって グラフに あらわしましょう。(3×5)

(人)

すきな	くだもの	りんご	みかん	いちご	ぶどう	もも
5						



- ② いちごが すきな人は、何人でですか。(6) ( )人
- ③ すきな人が いちばん 多い くだものは 何ですか。(7) ( )
- ④ すきな人が いちばん 少ない くだものは 何ですか。(7) ( )
- ⑤ グラフの 人数を 下の ひょうじに あらわしましょう。(3×5)

すきな くだもの しらべ

すきな	くだもの	りんご	いちご	みかん	ぶどう	もも
人数 (人)						