

たし算 ①

名

● 2けた+1けた(くり上がりなし) 前

🍌 つぎの ^{けいさん} 計算を しましょう。

① $10 + 2 = 12$ ⑨ $13 + 5 = 18$

② $11 + 4 = 15$ ⑩ $14 + 4 = 18$

③ $13 + 3 = 16$ ⑪ $12 + 6 = 18$

④ $14 + 1 = 15$ ⑫ $10 + 8 = 18$

⑤ $15 + 3 = 18$ ⑬ $15 + 4 = 19$

⑥ $11 + 7 = 18$ ⑭ $17 + 2 = 19$

⑦ $16 + 2 = 18$ ⑮ $16 + 1 = 17$

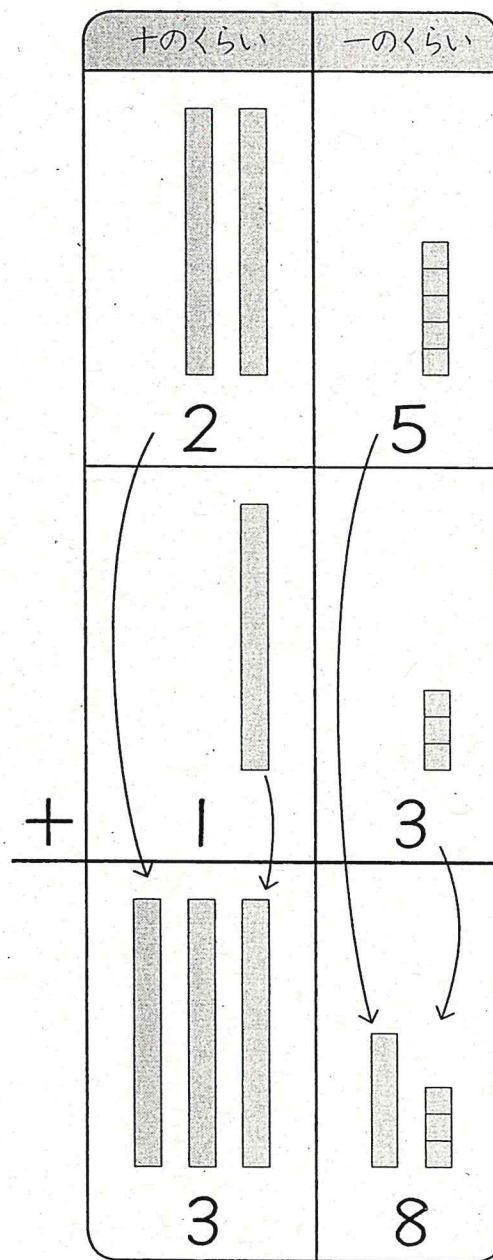
⑧ $18 + 1 = 19$

たし算 ②


名

● 2けた+2けた(くり上がりなし) 前

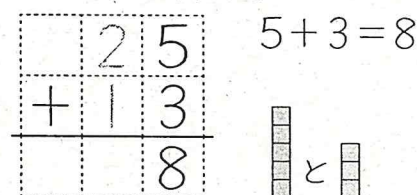
🍌 $25 + 13$ を ^{ひっ算} で しましょう。




① ひっ算は、^ひ くらいを そろえて 書きます。



② ① ^{けいさん} じめに、一のくらいの 計算を します。



③ つぎに、^{けいさん} 十のくらいの 計算を します。



④ ぜんぶを ^ひ 書くと、下のよう になります。じゅんばんに 気をつけて なぞりましょう。

