



休ぎょう中プリント① 名まえ

プリントは、新学期に提出する必要はありません。御家庭で活用してください。

1 ○でかこみましょう。

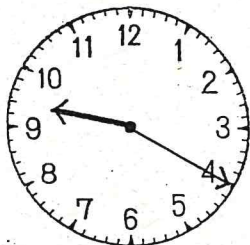
① 右から4こめのこま。



② 左から5ひきのラクダ。

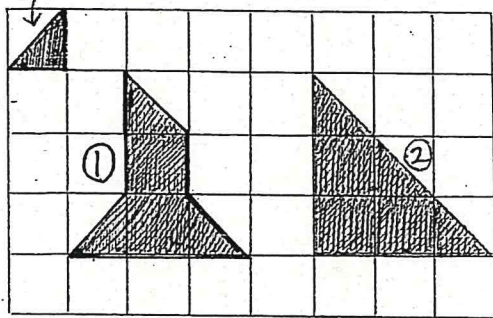


4 とけいをよみましょう。



6 つぎのかたちをつくるためには


①のいろいろなは なんまいありますか。



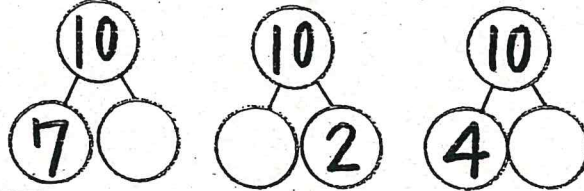
①

② まい

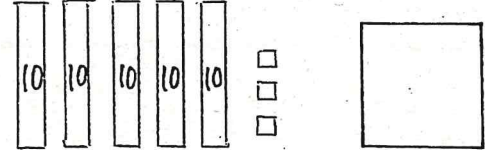
9 □の中にかずをかきましょう。



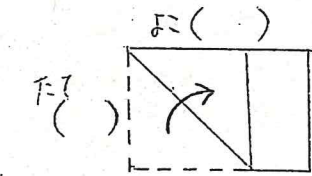

2 さくらんぼけいさんをしましょう。



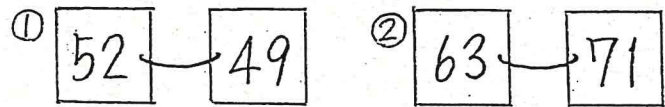
3 かずをかぞえましょう。



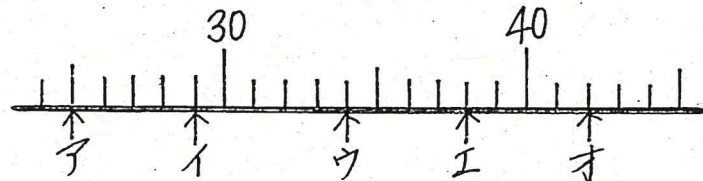
5 ながいほうに○をつけましょう。



7 大きいほうに○をつけましょう。



8 やじるしのかずをかきましょう。



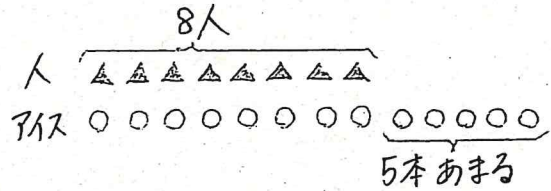
ア イ ウ エ オ

10 けいさんをしましょう。

- ① $9 + 5 =$ ② $17 - 8 =$ ③ $3 + 12 - 8 =$
- ④ $6 + 8 =$ ⑤ $11 - 4 =$ ⑥ $13 - 7 + 2 =$
- ⑦ $5 + 7 =$ ⑧ $13 - 5 =$ ⑨ $8 + 6 - 5 =$
- ⑩ $8 + 3 =$ ⑪ $12 - 9 =$ ⑫ $11 - 6 + 9 =$

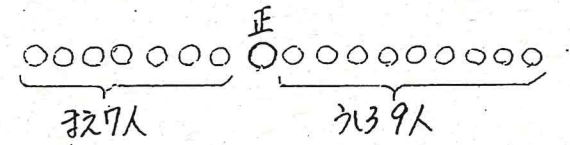
11 文しょうをよんで"ず"をつかてかんがえましょう。

① 8人が1本ずつアイスを食べるとアイスは5本あまります。アイスはぜんぶで なん本ありますか。



しき

② 正さんの手に7人、うしろに9人おらんでいます。ぜんいんで なん人数いますか。

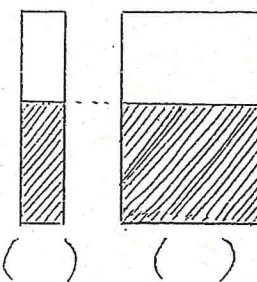


しき

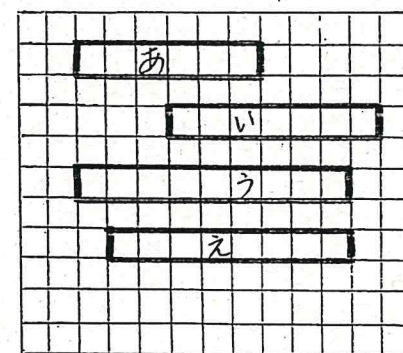
よたえ

よたえ

12 おおく入っているほうに○をつけましょう。



13 ながさをくらべましょう。まのいくつかぶんのながさですか。



- ① あは ぶん。
- ② いは ぶん。
- ③ うとえではどちらがまのいくつかぶんのながさながい。
 が ぶんながい。