


1 ○でかこみましょう。


① 右から5ひきのさかな。



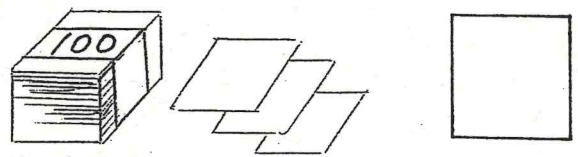
② 左から4ひきのカンガルー。




2 さくらんぼけいさんをしましょう。



3 かずをかぞえましょう。

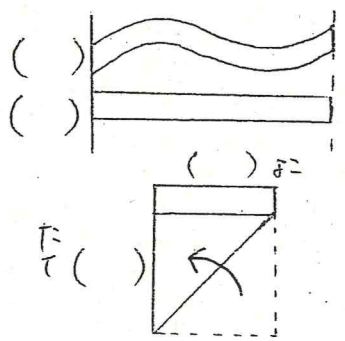


4 とけいをよみましょう。




Three empty boxes for writing the times.

5 ながいほうに○をつけましょう。




6 つぎのかたちをつくるためには

①のいろいろなまをいいますか。

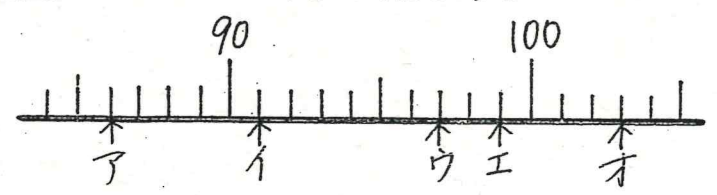


Two empty boxes for writing the number of sticks used to create the shapes.

7 大きいほうに○をつけましょう。

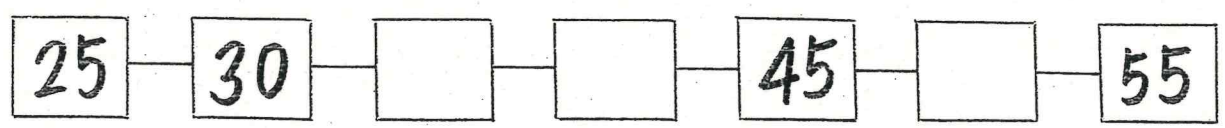


8 やじるしのかずをかきましょう。



Five empty boxes for writing the number of tick marks between the labeled points.

9 □の中にかずをかきましょう。

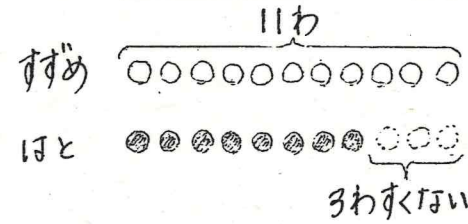


10 けいさんをしましょう。

- ① $9 + 6 =$
- ② $16 - 8 =$
- ③ $4 + 7 - 8 =$
- ④ $4 + 8 =$
- ⑤ $11 - 7 =$
- ⑥ $11 - 3 + 9 =$
- ⑦ $9 + 7 =$
- ⑧ $13 - 8 =$
- ⑨ $7 + 8 - 5 =$
- ⑩ $5 + 6 =$
- ⑪ $12 - 5 =$
- ⑫ $12 - 8 + 7 =$

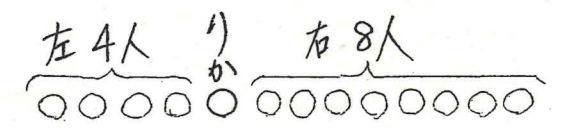
11 文しょうをよんでずをつかってかんがえましょう。

① すずめが11わいます。ほとは、すずめより3わすくないそうです。ほとは、なんわいますか。



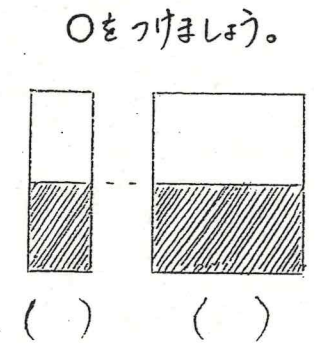
A line for writing the answer to question 11-1.

② リかさんの右がわに8人います。リかさんの左がわに4人います。ぜんいんでなん人いますか。



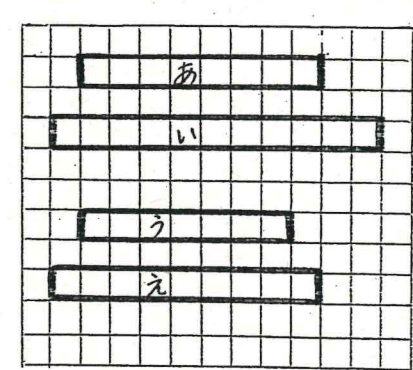
A line for writing the answer to question 11-2.

12 おおく入っているほうに○をつけましょう。



Two empty parentheses for writing the answers to question 12.

13 ながさをくらべましょう。



- ① あは□つぶん。
- ② いは□つぶん。
- ③ うとえではどちらがすのいづぶんながいでしょうか。□が□つぶんながい。

こたえ

こたえ