



模範解答

なまえ ( )

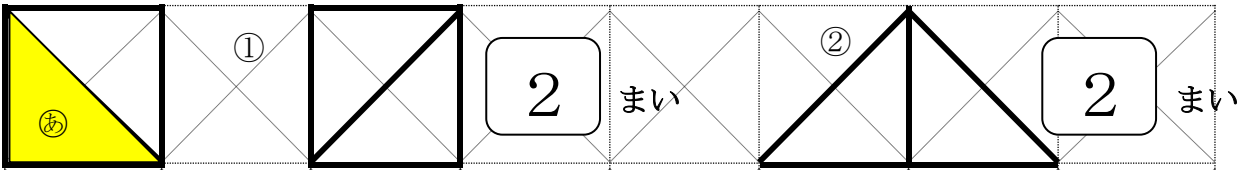
1 コバトンは いろいたを ならべて 4つの かたちをつくりました。

(1) ①の いろいたが なんまいで できますか。(10点×4問)

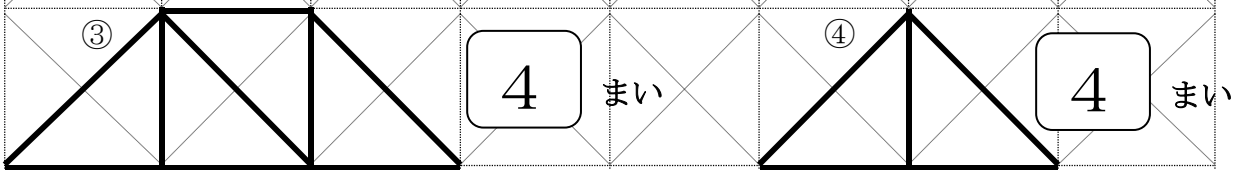
(2) ならべかたが わかるように せんを かきましよう。(10点×4問)

点

2 ①の いろいたを ならべて すきな かたちを かきましよう。(20点)

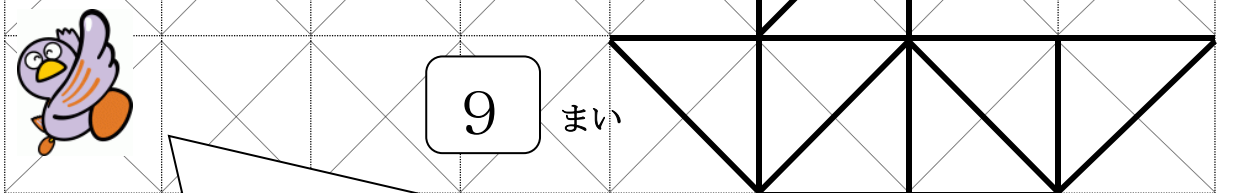


①と③は、正答が2つあります。

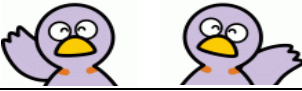


2 解答例

色板を、ずらしたり回転させたり裏返したりすることを通して、図形感覚を養いましょう。

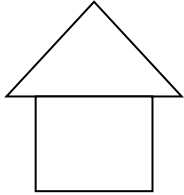


すきな かたちは ①の いろいたが なんまいで できましたか。

模範解答  なまえ ( )

1 どんな かたちを つかって かいて いますか。(10点×2問)

(1)




さんかく

と

しかく

点

(2)



さんかく

と

しかく



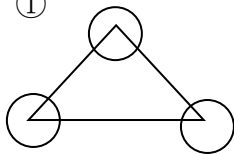
まる

身の回りの物から、「さんかく」「しかく」「まる」などの形を見つけることができるようにしましょう。

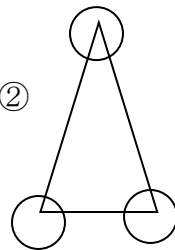
2 さんかくの かどについて しらべます。(10点×4問)

(1) かどに ○を つけましょう。

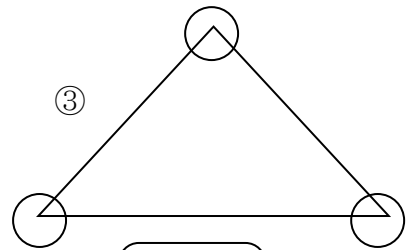
①



②



③



(2) さんかくの かどの かずは いくつ ありますか。

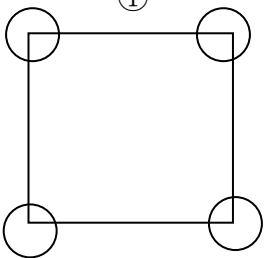
3

つ

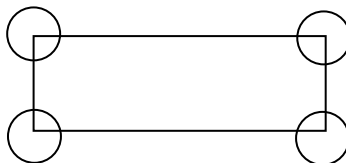
3 しかくの かどについて しらべます。(10点×4問)

(1) かどに ○を つけましょう。

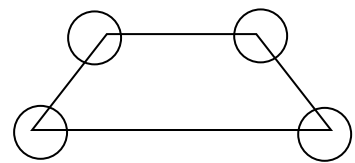
①



②



③



(2) しかくの かどの かずは いくつ ありますか。

4

つ

