
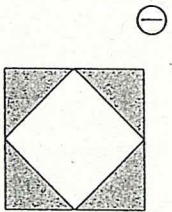


かたち② A

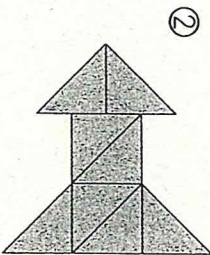
なまえ

技能

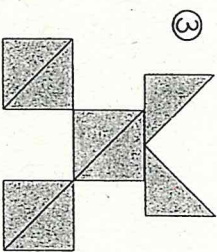
□ ①～③は  の いろいけが なんまいで できていますか。(5×3)



() まい

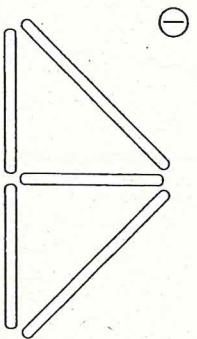


() まい

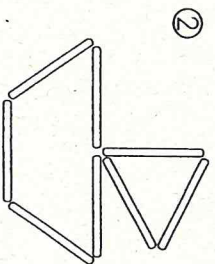


() まい

□ ①, ②は ぼうが なんぼんで できていますか。(5×2)



() ほん



() ほん

□ ①～⑤をつないで おなじ かたちをかきましょう。(5×5)

