





# 休ぎょう中プリント(2) 名まえ

プリントは、新学期に提出する必要はありません。御家庭で活用してください。


1 ○でかこみましょう。  
① 右から2こめのプリン。



2 さくらんぼけいさんをしましょう。

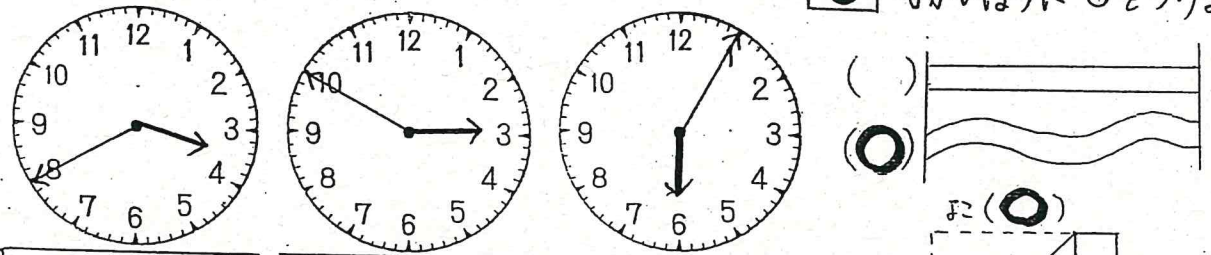


② 左から4こめのくり。



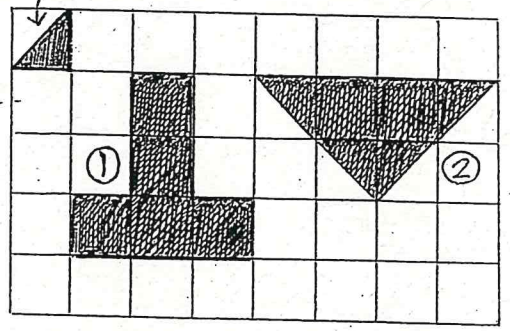
3 かずを かぞえましょう。  
 29

4 とけいをよみましょう。



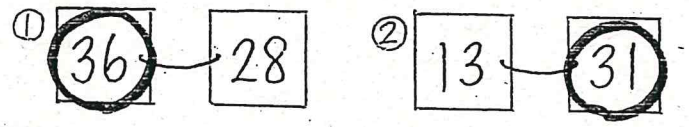
3じ40分 2じ50分 6じ50分

6 つぎのかたちをつくるためには  
①のいろいろなは なんまいですか。

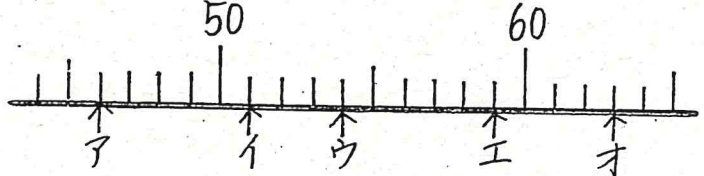


① 10 まい ② 8 まい

7 大きいほうに ○ をつけましょう。



8 やじるしのかずを かきましょう。



ア 46 イ 51 ウ 54 エ 59 オ 63

9 □の中にかずを かきましょう。

10 20 30 40 50 60 70

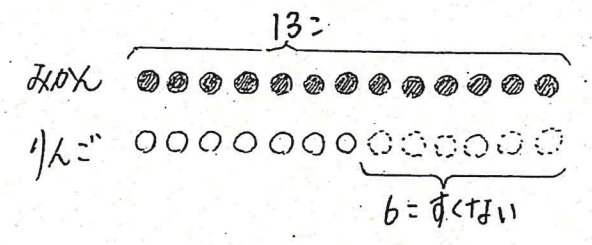
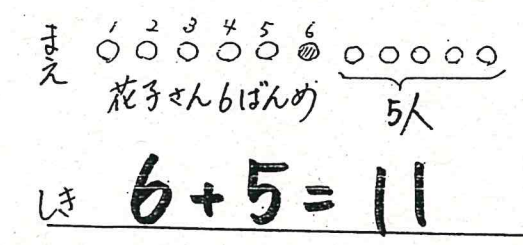
10 けいさんをしましょう。

- ①  $8 + 5 = 13$  ②  $17 - 9 = 8$  ③  $\frac{4 + 9}{13} - 8 = 5$
- ④  $7 + 8 = 15$  ⑤  $11 - 5 = 6$  ⑥  $\frac{14 - 7}{7} + 3 = 10$
- ⑦  $6 + 7 = 13$  ⑧  $13 - 6 = 7$  ⑨  $\frac{9 + 6}{15} - 4 = 11$
- ⑩  $9 + 3 = 12$  ⑪  $12 - 8 = 4$  ⑫  $\frac{11 - 7}{4} + 9 = 13$

11 文しょうをよんで"ず"をつけてかながえましょう。

① 花子さんはまえから6ばんめについています。花子さんのうしろに5人についています。みんなはでじん人ですか。

② みんなが13人あります。りんごはみんなより6人すくはいそうです。りんごはでじん人ですか。

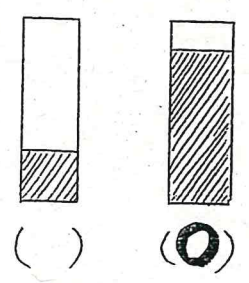


こたえ 11人

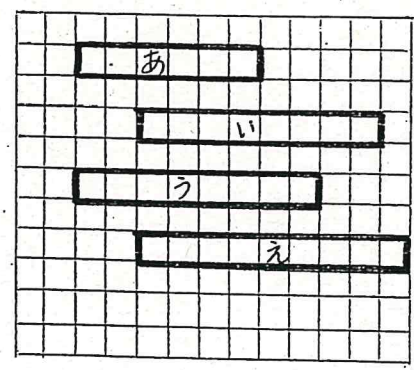
しき  $13 - 6 = 7$

こたえ 7人

12 おおく入っているほうに ○ をつけましょう。



13 なかぎをしらべましょう。まのいくつぶんのかぎですか。



① あは 6 ぶん。  
② いは 8 ぶん。  
③ うとえではどちらがまのいくつぶんながいでしょうか。  
えが 1 ぶんながい。