

たし算 ①

名

● 2けた+1けた(くり上がりなし) 前

🍌 つぎの ^{けいさん} 計算を しましょう。

① $10 + 2 =$

⑨ $13 + 5 =$

② $11 + 4 =$

⑩ $14 + 4 =$

③ $13 + 3 =$

⑪ $12 + 6 =$

④ $14 + 1 =$

⑫ $10 + 8 =$

⑤ $15 + 3 =$

⑬ $15 + 4 =$

⑥ $11 + 7 =$

⑭ $17 + 2 =$

⑦ $16 + 2 =$

⑮ $16 + 1 =$

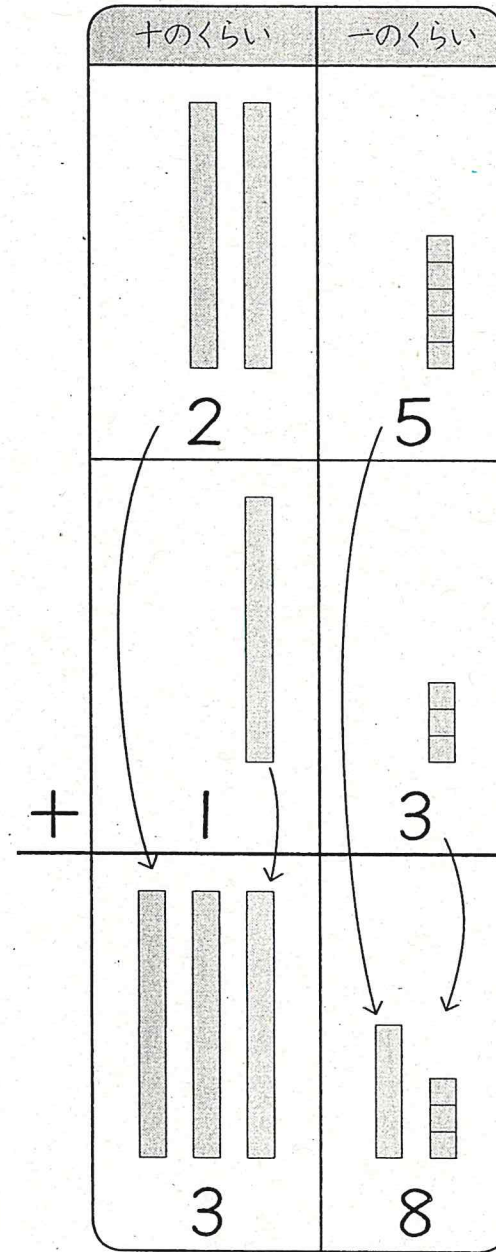
⑧ $18 + 1 =$

たし算 ②

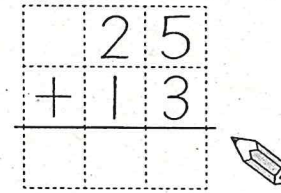
名

● 2けた+2けた(くり上がりなし) 前

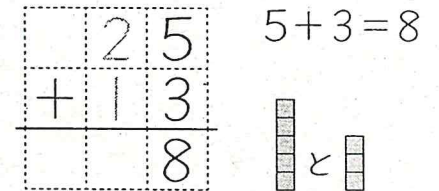
🍓 $25 + 13$ を ^{けいさん} ひっ算で しましょう。




① ひっ算は、^{けいさん} くらいを そろえて 書きます。



② はじめに、一のくらいの ^{けいさん} 計算を します。



③ つぎに、十のくらいの ^{けいさん} 計算を します。



④ ぜんぶを ^{けいさん} 書くと、下のよう になります。じゅんばんに 気をつけて なぞりましょう。

