

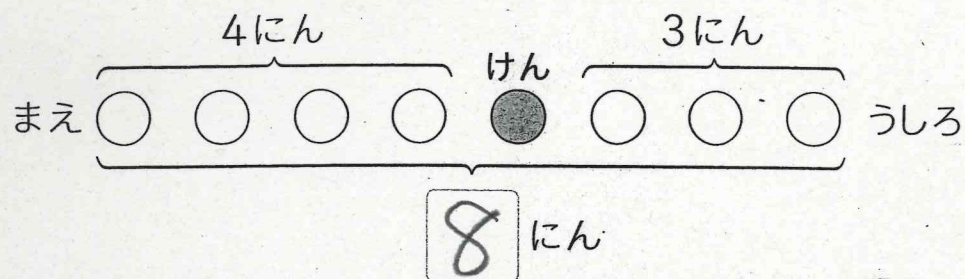
月 日 () ずをつかってかんがえよう

もんだい

バスでいい人がならんでいます。
けんさんのまえに4人います。
けんさんのうしろに3人います。
ぜんぶでなんにならんでいますか。



ず



- ① 上のずの □ にあてはまるかずをかきましょう。
- ② 上のずを見て、しきをかき、こたえをもとめましょう。

しき $4 + 3 + 1 = 8$ ($4 + 1 + 3 = 8$)

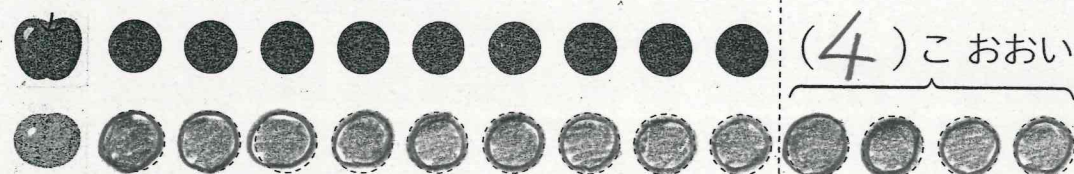
こたえ 8人

☆ ヒント... けんさんの1人をたすのをわすれないようにしよう。

No. 3 名まえ

もんだい

りんごを9こかいました。みかんは、りんごより4こおおくかいました。
みかんはなんこかいましたか。

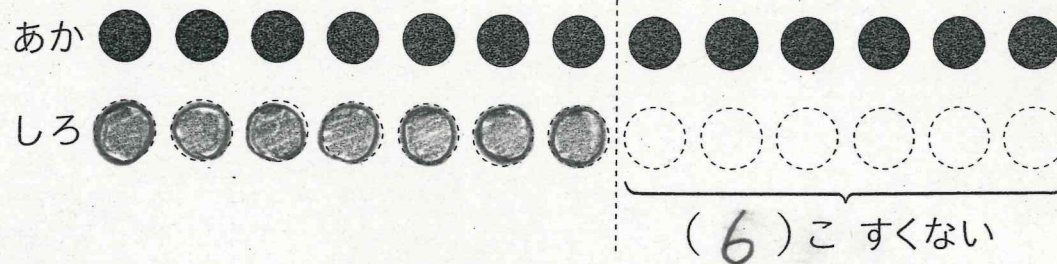


しき $9 + 4 = 13$

こたえ 13こ

もんだい

玉入れをしました。赤ぐみは13こ入りました。
白ぐみは、赤ぐみより6こすくなくです。
白ぐみはなんこ入りましたか。



しき $13 - 6 = 7$

こたえ 7人