



1 ○でかこみましょう。

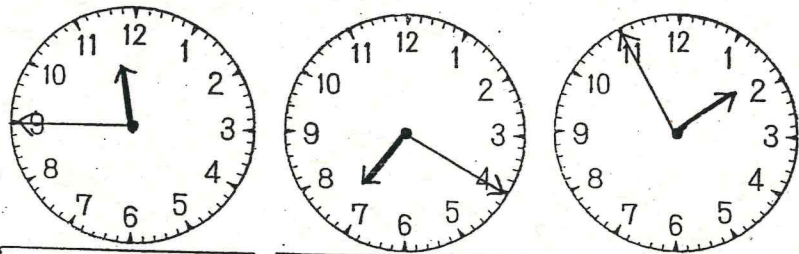
① 右から5ひきのさかな。



② 左から4ひきのカンガルー。



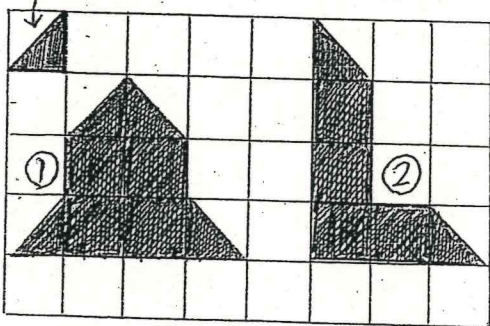
4 とけいをよみましょう。



11じ45ぶん 7じ20ぶん 1じ55ぶん

6 つぎのかたちをつくるためには

①のいろいろは なんまいいいますか。




① 12まい ② 10まい

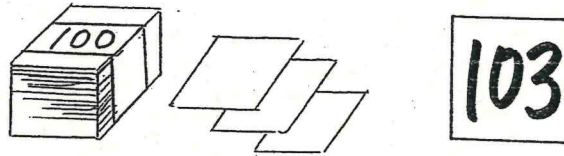
9 □の中にかずをかきましょう。

25 — 30 — 35 — 40 — 45 — 50 — 55

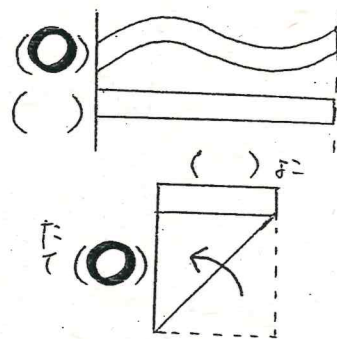
2 さくらんぼけいさんをしましょう。



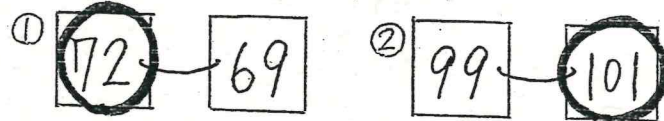
3 かずをかぞえましょう。



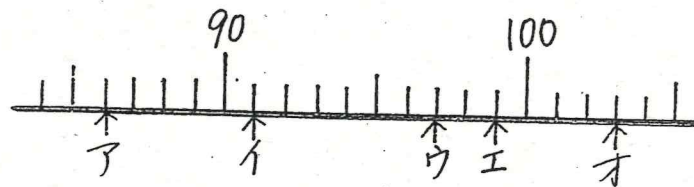
5 ながいほうに○をつけましょう。



7 大きいほうに○をつけましょう。



8 やじるしのかずをかきましょう。



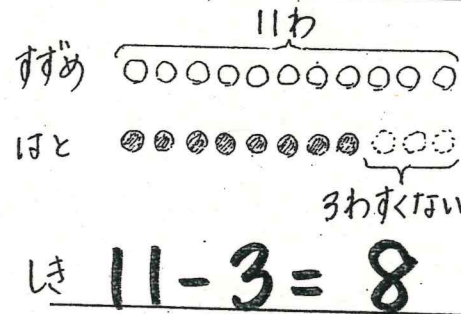
90 100
ア イ ウ エ オ
86 91 97 99 103

10 けいさんをしましょう。

- ① $9 + 6 = 15$ ② $16 - 8 = 8$ ③ $\frac{4 + 7}{11} - 8 = 3$
- ④ $4 + 8 = 12$ ⑤ $11 - 7 = 4$ ⑥ $\frac{11 - 3}{8} + 9 = 17$
- ⑦ $9 + 7 = 16$ ⑧ $13 - 8 = 5$ ⑨ $\frac{7 + 8}{15} - 5 = 10$
- ⑩ $5 + 6 = 11$ ⑪ $12 - 5 = 7$ ⑫ $\frac{12 - 8}{4} + 7 = 11$

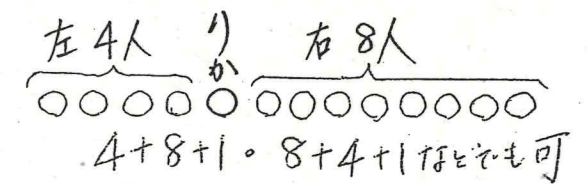
11 文しょうをよんで ずをつかて かんがえましょう。

① すずめが11わいます。はとは、すずめより3わすくないそうです。はとは、なんわいますか。



こたえ 8わ

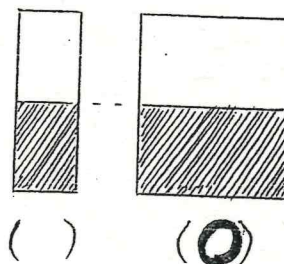
② リカさんの右がわに8人います。リカさんの左がわに4人います。ぜんいんで なんん人いますか。



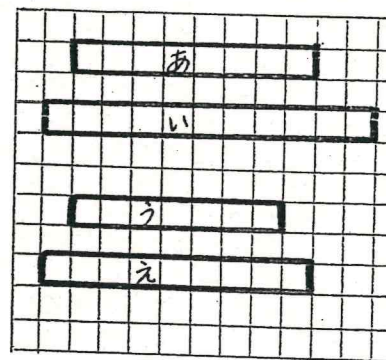
4 + 8 + 1 = 8 + 4 + 1 ねんねも可
き $4 + 1 + 8 = 13$

こたえ 13人

12 おおく入っているほうに○をつけましょう。



13 ながさをくらべましょう。



あは 8つぶん。いはいは 11つぶん。うとえではどちらがまつのいくぶんながいでしょうか。

えが 2つぶんながい。