


休ぎょう中プリント(2) 名まえ


プリントは、新学期に提出する必要はありません。御家庭で活用してください。

1 ○でかこみましょう。

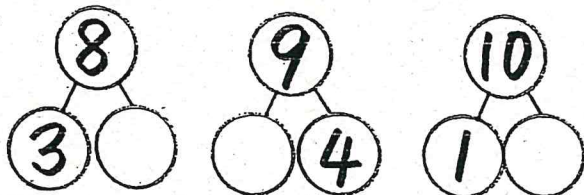
① 右から2コのプリン。



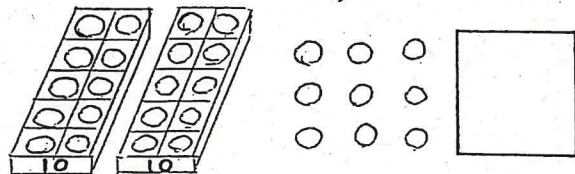
② 左から4=めのくり。



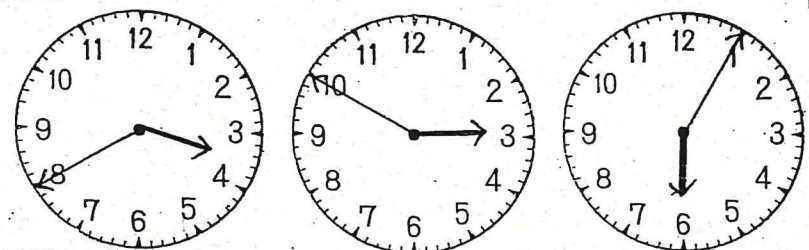
2 さくらんぼけいさんをしましょう。



3 かずをかぞえましょう。

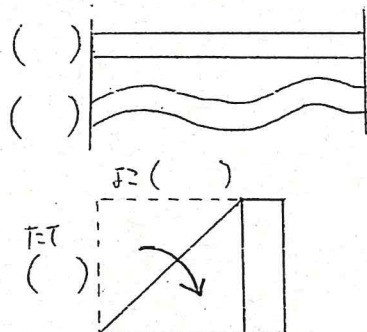


4 とけいをよみましょう。



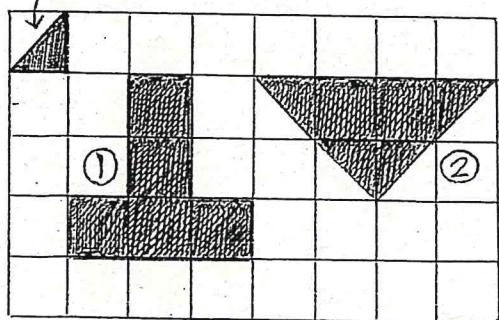
Three empty rectangular boxes for writing the times.

5 ながいほうに○をつけましょう。




6 つぎのかたちをつくるためには

①のいろいろなはなんまいですか。



① まい ② まい

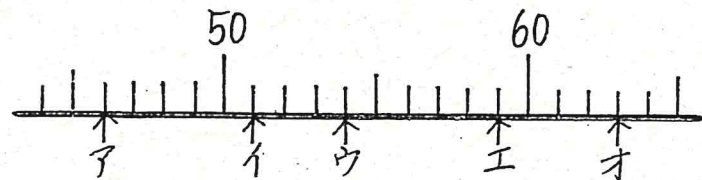
9 □の中にかずをかきましょう。



7 大きいほうに○をつけましょう。



8 やじるしのかずをかきましょう。



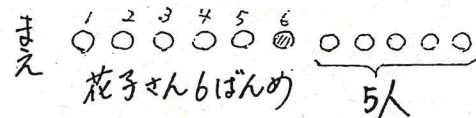
子 い う え お

10 けいさんをしましょう。

- ① $8 + 5 =$ ② $17 - 9 =$ ③ $4 + 9 - 8 =$
- ④ $7 + 8 =$ ⑤ $11 - 5 =$ ⑥ $14 - 7 + 3 =$
- ⑦ $6 + 7 =$ ⑧ $13 - 6 =$ ⑨ $9 + 6 - 4 =$
- ⑩ $9 + 3 =$ ⑪ $12 - 8 =$ ⑫ $11 - 7 + 9 =$

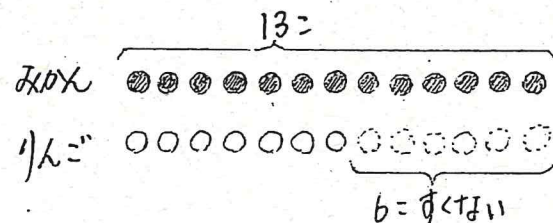
11 文しょうをよんでずをつかってかんがえましょう。

① 花子さんはまえから6ばんめについています。花子さんのうしろに5人についています。みんなで何人ですか。



しき

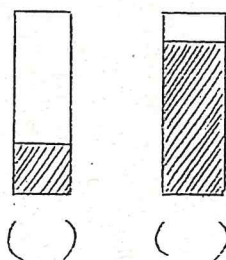
② みかんが13あります。りんごはみかんより6すくはいそうです。りんごは何個ですか。



しき

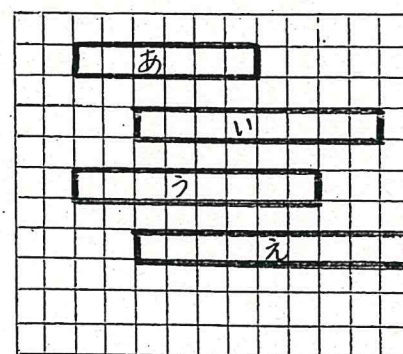
こたえ

12 おおく入っているほうに○をつけましょう。



() ()

13 なかきをしらべましょう。



まのいくつかぶんのなかきですか。

① あは ぶん。

② いは ぶん。

③ うとえではどちらがまのいくつかぶんながいでしょうか。

が ぶんながい。

こたえ