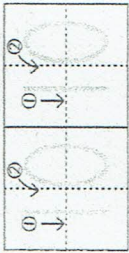
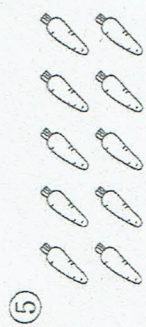

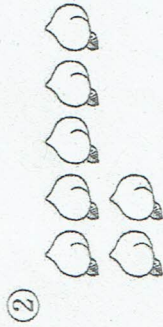



いくつかな ⑤

● 6~10

なまえ

● いくつ あるでしょう。よみかたと
すうじを なぞりましょう。



いくつかな ⑥




● 6~10

なまえ

1. ていねいに かきましよう。

ろく	しち	はち	く	じゅう															

2. かずを がぞえて □に かきましよう。



いくつかな ⑦

● 6~10

なまえ

1. タイルは いくつ ありますか。

①		(5)
②		()
③		()
④		()
⑤		()
⑥		()

2. ●は いくつ ありますか。() に かずを かきましょう。

①		()
②		()
③		()
④		()
⑤		()
⑥		()

いくつかな ⑧

● 6~10

なまえ

● おなじ かずを せんで むすびましょう。

	く	6
	しち	9
	ろく	7
	はち	10
	じゅう	8

