

小学校5年社会

組 番 名 前

内川さんたちは、日本の各地域の気候や暖かい地域の暮らしについて調べました。調べたことについて三人で話し合いをしています。【話し合いの一部】、【太平洋側の気候のグラフ】、【日本海側の気候のグラフ】、【近づいた台風の数】を見て、あとの問いに答えましょう。

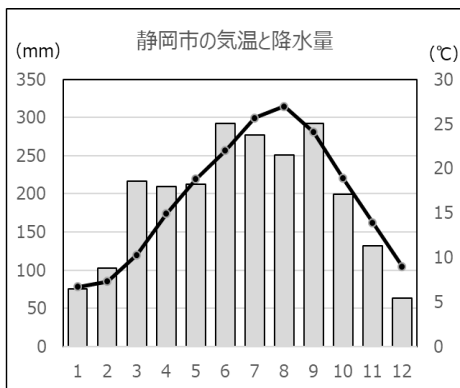
【話し合いの一部】

内川さん 太平洋側の気候は、気温が高く、あたたかいです。また、季節風のえいきょうで、夏や秋に降水量が多いです。6月から7月のつゆの間と、台風が近づく8月から9月には雨が多く降ります。

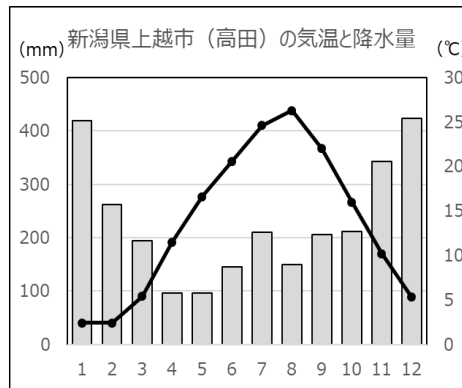
外山さん 日本海側の気候は、A。

中村さん また、北海道とくらべると、沖縄県には多くの台風が近づいています。

【太平洋側の気候のグラフ】



【日本海側の気候のグラフ】



【近づいた台風の数】(個)

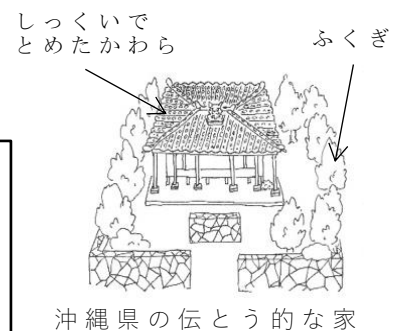
	北海道	沖縄県
2018	3	13
2017	0	7
2016	5	7
2015	1	6
2014	1	10

(1) 【話し合いの一部】の A には、日本海側の気候の特ちょうの説明が入ります。内川さんの説明を参考にして書きましょう。

日本海側の気候は、

(2) 沖縄県の家には、気候に合わせてくふうが見られます。沖縄県の伝統的な家のくふうを、「台風」という言葉を入れて説明しましょう。

伝とう的な家のくふうは



小学校5年社会

組 番 名 前

内川さんたちは、日本の各地域の気候や暖かい地域の暮らしについて調べました。調べたことについて三人で話し合いをしています。【話し合いの一部】、【太平洋側の気候のグラフ】、【日本海側の気候のグラフ】、【近づいた台風の数】を見て、あとの問いに答えましょう。

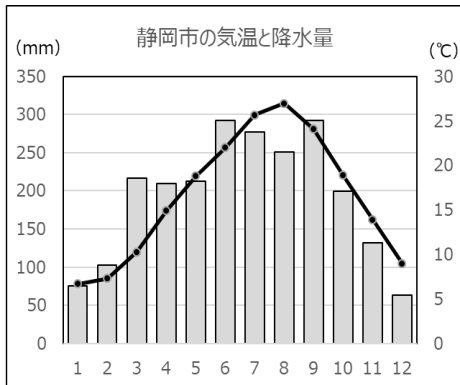
【話し合いの一部】

内川さん 太平洋側の気候は、気温が高く、あたたかいです。また、季節風のえいきょうで、夏や秋に降水量が多いです。6月から7月のつゆの間と、台風が近づく8月から9月には雨が多く降ります。

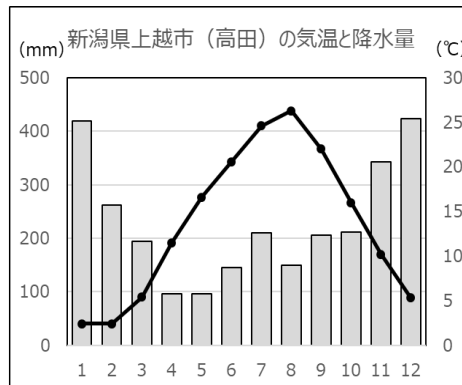
外山さん 日本海側の気候は、A。

中村さん また、北海道とくらべると、沖縄県には多くの台風が近づいています。

【太平洋側の気候のグラフ】



【日本海側の気候のグラフ】



【近づいた台風の数】(個)

	北海道	沖縄県
2018	3	13
2017	0	7
2016	5	7
2015	1	6
2014	1	10

(1) 【話し合いの一部】の A には、日本海側の気候の特ちょうの説明が入ります。内川さんの説明を参考にして書きましょう。

日本海側の気候は、(例) 夏の気温は太平洋側の気候と同じくらいですが、冬は気温が低くなります。大陸からふく季節風のえいきょうで、11月から1月にたくさん雪が降ります

(2) 沖縄県の家には、気候に合わせてくふうが見られます。沖縄県の伝統的な家のくふうを、「台風」という言葉を入れて説明しましょう。

伝とう的な家のくふうは、(例) 台風からくらしを守るために

- ・家の周りを石垣で囲む
 - ・屋根かわらをしっくいでおとめる。
 - ・木を植えて、風から守る。
- など

※ どれかを書いていけば正答とする。



沖縄県の伝とう的な家