

算数 2

2月

学年末テスト

ポピーをした日 月 日 [25分でやろう]

名前

5年

点

1 次の数を書きなさい。

[16] 1つ4

- ① 17の^{ばいすう}倍数を小さいほうから3つ。

()

- ② (16, 12)の^{さいしやうこうばいすう}最小公倍数。

()

- ③ 28の^{やくすう}約数をぜんぶ。

()

- ④ (36, 90)の^{さいだいこうやくすう}最大公約数。

()

2 3dLで4.8m²のへいをぬることができるペンキがあります。このペンキで8m²のへいをぬるには何dLのペンキがいりますか。

[8] 1つ4

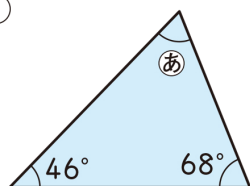
(式)

答え ()

3 次のあ、いの角の大きさを計算で求めなさい。

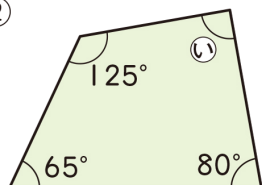
[16] 1つ4

- ① (式)



答え ()

- ② (式)



答え ()

4 次の計算をしなさい。

[16] 1つ4

① $\frac{4}{7} + \frac{2}{3}$

② $2\frac{1}{6} + 1\frac{5}{8}$

③ $\frac{7}{9} - \frac{3}{4}$

④ $2\frac{3}{8} - 1\frac{7}{10}$

5 ジュースが2つの容器にそれぞれ $\frac{3}{8}$ Lと $\frac{7}{12}$ L入っています。このジュースを $\frac{2}{3}$ L飲みました。残りのジュースは何Lですか。

[8] 1つ4

(式)

答え ()

6 次の問題に答えなさい。

[16] 1つ4

- ① 5時間で240km進んだ自動車の時速を求めなさい。

(式)

答え ()

- ② 分速60mで12分間歩くと、何m進みますか。

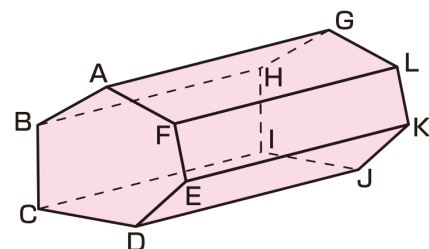
(式)

答え ()

7 右のような角柱があります。

[12] 1つ4

- ① この角柱は何という角柱ですか。



()

- ② 面ABCDEFと合同な面はどれですか。

()

- ③ 底面に垂直な辺をすべて答えなさい。

()

8 広さ450m²の^{しよくづえん}植物園があり、そのうち38%にばらが植えてあります。ばらが植えられているのは何m²ですか。

[8] 1つ4

(式)

答え ()