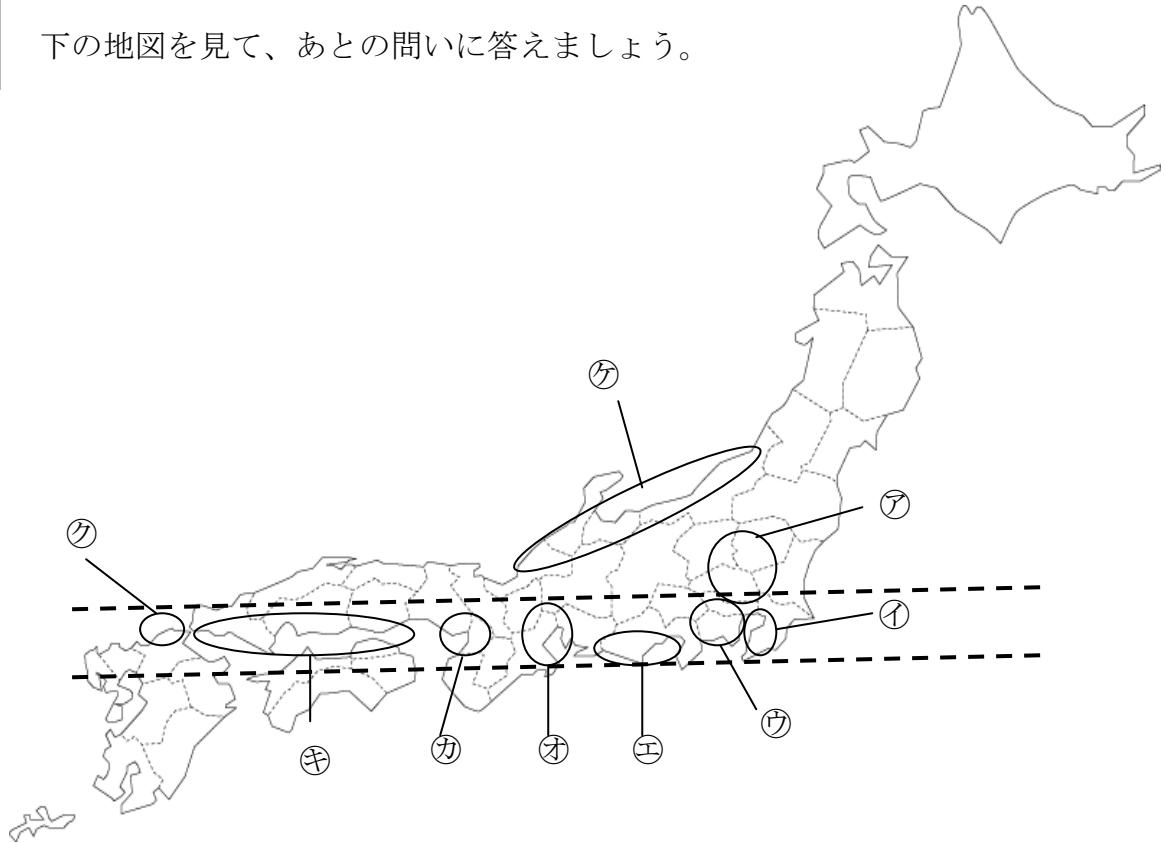


# 小学校5年社会

組 番 氏名

1

下の地図を見て、あとの問いに答えましょう。



(1) 地図中のア～ケの工業地帯・地域の名前を下の□から選んで番号で答えましょう。

- ア (     )    イ (     )    ウ (     )    エ (     )    オ (     )  
 カ (     )    キ (     )    ク (     )    ケ (     )

①中京工業地帯	②北九州工業地域	③京葉工業地域
④関東内陸工業地域	⑤瀬戸内工業地域	⑥京浜工業地帯
⑦北陸工業地域	⑧東海工業地域	⑨阪神工業地帯

(2) 次の文の (     ) にあてはまる言葉を下の□から選んで書きましょう。

- ① 日本の主な工業地域や工業地帯は、(     ) 沿いに広がっています。  
 これは、(     ) を使った海外からの原材料の輸入や、製品の輸出に便利だからです。
- ② 地図上の点線の間に見られる、関東地方南部から九州地方北部にかけての地域は、日本全体の工業生産額の (     ) 分の1以上をしめていて、ここを (     ) とよんでいます。

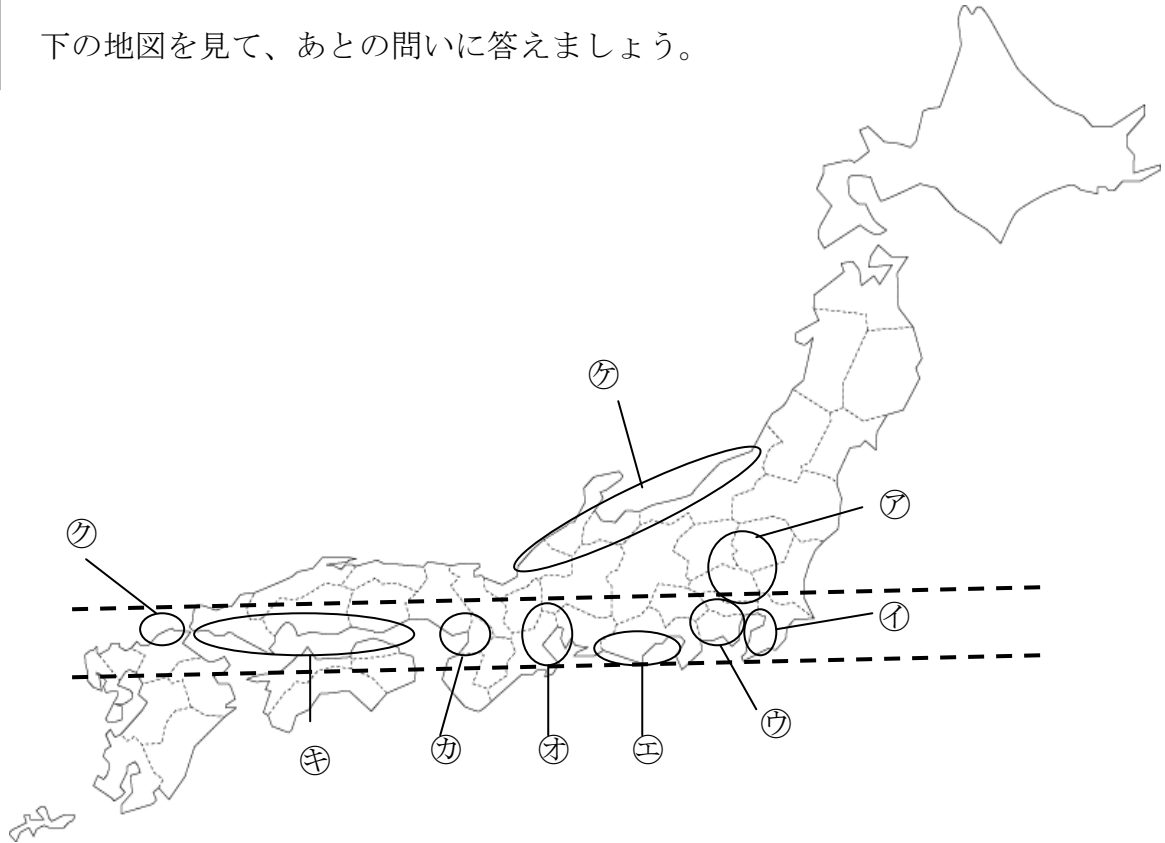
3	山	トラック	海	2	船	太平洋ベルト
---	---	------	---	---	---	--------

# 小学校5年社会

組 番 氏名

1

下の地図を見て、あとの問いに答えましょう。



(1) 地図中のア～ケの工業地帯・地域の名前を下の□から選んで番号で答えましょう。

ア ( ④ )    イ ( ③ )    ウ ( ⑥ )    エ ( ⑧ )    オ ( ① )  
 カ ( ⑨ )    キ ( ⑤ )    ク ( ② )    ケ ( ⑦ )

- |           |          |         |
|-----------|----------|---------|
| ①中京工業地帯   | ②北九州工業地域 | ③京葉工業地域 |
| ④関東内陸工業地域 | ⑤瀬戸内工業地域 | ⑥京浜工業地帯 |
| ⑦北陸工業地域   | ⑧東海工業地域  | ⑨阪神工業地帯 |

(2) 次の文の (       ) にあてはまる言葉を下の□から選んで書きましょう。

① 日本の主な工業地域や工業地帯は、( 海 ) 沿いに広がっています。  
 これは、( 船 ) を使った海外からの原材料の輸入や、製品の輸出に便利だからです。

② 地図上の点線の間に見られる、関東地方南部から九州地方北部にかけての地域は、日本全体の工業生産額の ( 2 ) 分の1以上をしめていて、ここを ( 太平洋ベルト ) とよんでいます。

3    山    トラック    海    2    船    太平洋ベルト

# 小学校5年社会

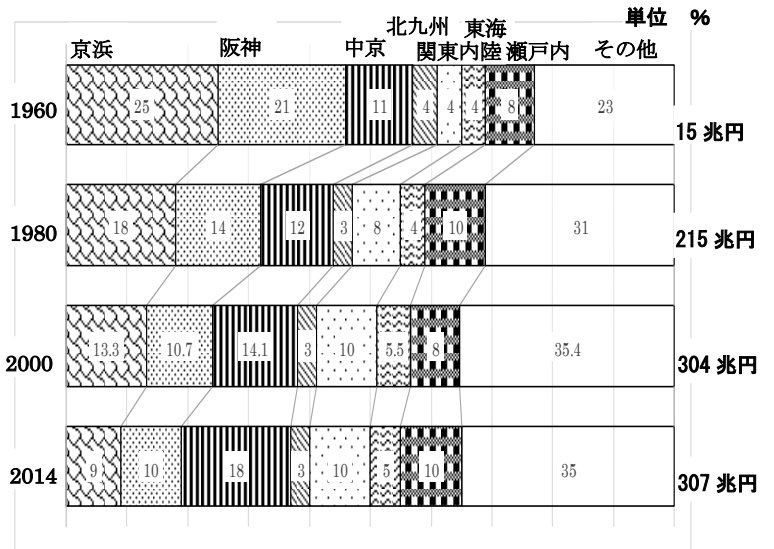
組 番 氏名

## 1

右のグラフを見て、日本の工業生産について、あとの問いに答えましょう。

(1) 次の文の ( ) にあてはまる言葉を下の□から選んで書きましょう。

1960年代、日本で工業生産額が一番多い工業地帯・工業地域は、( ) 工業地帯でしたが、現在は、( ) 工業地帯が第1位です。ここは、( ) 工業のほか、古くから伝わる瀬戸物とよばれる陶磁器づくりなどがさかんです。



( 経済産業省調べ )

阪神      中京      金属      機械      京浜      食料品      自動車

## 2

下のグラフを見て、東京都大田区の工業について、あとの問いに答えましょう。


(1) 次の文の ( ) にあてはまる言葉を下の□から選んで書きましょう。

(同じ言葉を使ってもよいです)

① 従業員が300人以上の工場のことを ( ) といい、300人未満の工場のことを ( ) といいます。日本の工場のほとんどは ( ) です。

② 大田区の工場数を業種別に

見ると、全国や京浜工業地帯の平均に比べて、( ) 工業や ( ) 工業のわりあいが高くなっています。



業種別工業のうつりかわり 2014年 工業統計表 経済産業省

化学      金属      中小工場      せんい      機械      大工場

# 小学校5年社会

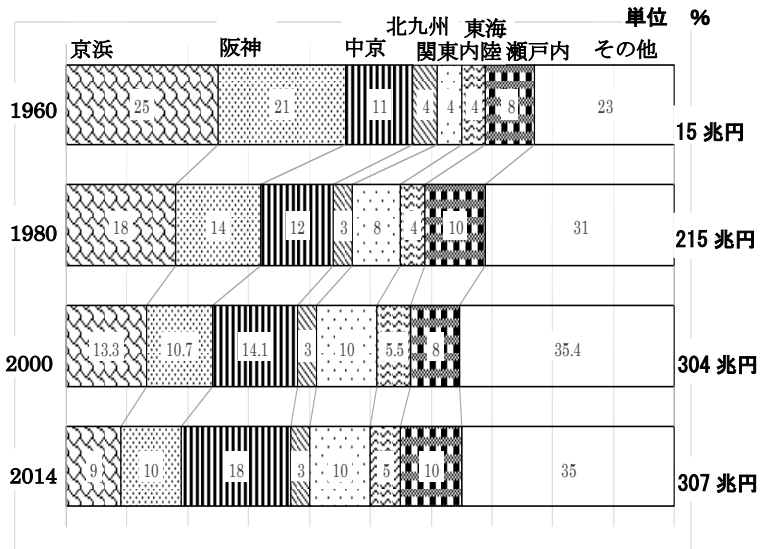
組 番 氏名

## 1

右のグラフを見て、日本の工業生産について、あとの問いに答えましょう。

(1) 次の文の ( ) にあてはまる言葉を下の□から選んで書きましょう。

1960年代、日本で工業生産額が一番多い工業地帯・工業地域は、( **京浜** ) 工業地帯でしたが、現在は、( **中京** ) 工業地帯が第1位です。ここは、( **自動車** ) 工業のほか、古くから伝わる瀬戸物とよばれる陶磁器づくりなどがさかんです。



( 経済産業省調べ )

阪神      中京      金属      機械      京浜      食料品      自動車

## 2

下のグラフを見て、東京都大田区の工業について、あとの問いに答えましょう。


(1) 次の文の ( ) にあてはまる言葉を下の□から選んで書きましょう。

(同じ言葉を使ってもよいです)

① 従業員が300人以上の工場のことを( **大工場** ) といい、300人未満の工場のことを( **中小工場** ) といいます。日本の工場のほとんどは( **中小工場** ) です。

② 大田区の工場数を業種別

に見ると、全国や京浜工業地帯の平均に比べて、( **機械** ) 工業や( **金属** ) 工業のわりあいが高くなっています。



業種別工業のうつりかわり 2014年 工業統計表 経済産業省

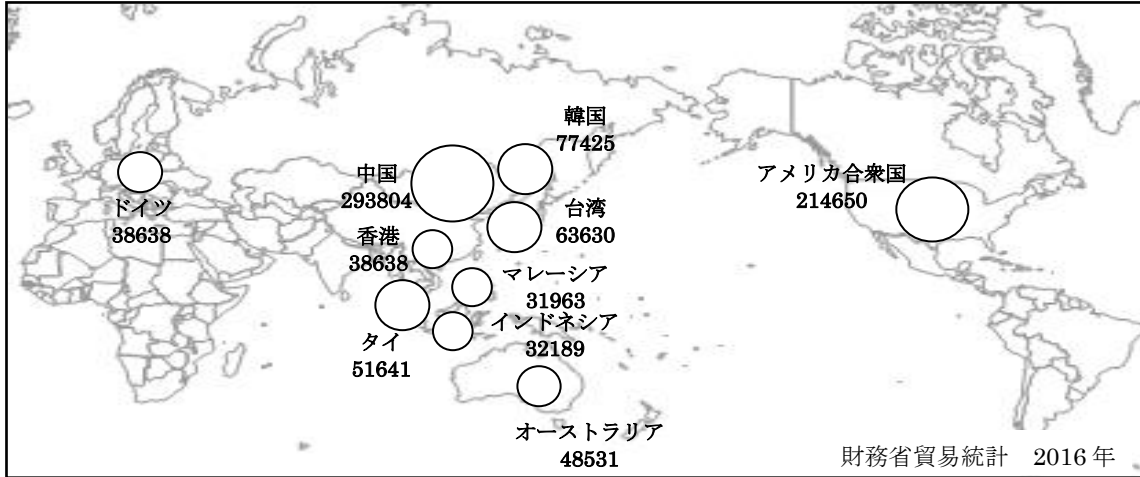
化学      金属      中小工場      せんい      機械      大工場

# 小学校5年社会

組 番 氏名

1

下の図とグラフを見て、あとの問いに答えましょう。



数字は輸出入総額で、単位は億円

図1 日本のおもな貿易相手国

(1) 図1は、日本のおもな貿易相手国を表しています。日本の貿易相手国の第1～5位の国をそれぞれ書きましょう。

- 第1位 ( )
- 第2位 ( )
- 第3位 ( )
- 第4位 ( )
- 第5位 ( )

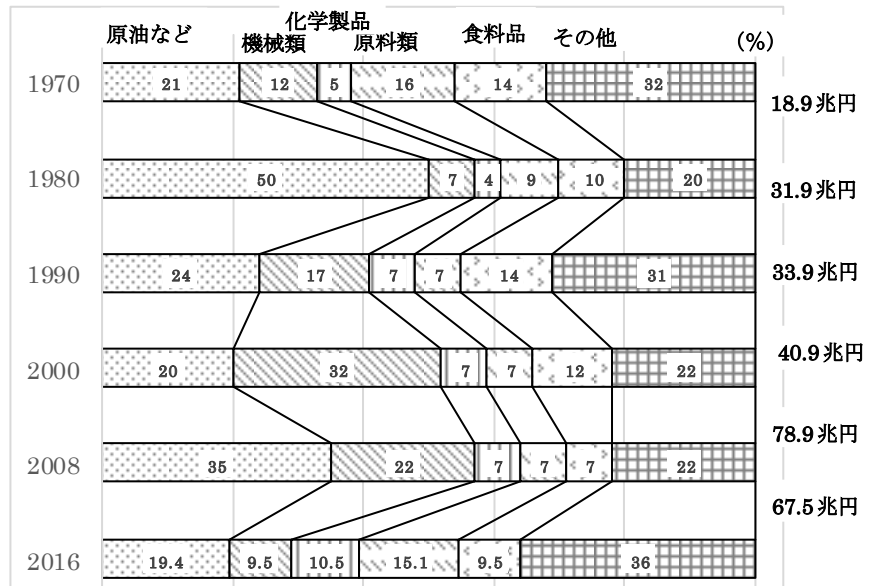


図2 主な輸入品の取り扱い額のわりあいの変化 (通商白書 貿易統計)

(2) 図2は日本の主な輸入品の<sup>あつか</sup>取り扱い額のわりあいの変化を表しています。このグラフから読み取れることとして正しいものを、次から2つ選びましょう。

- ア 原油などの燃料の輸入額のわりあいは、1980年をピークに下がり続けている。
- イ 2008年には、機械類の輸入額のわりあいが1980年のおよそ3倍になっている。
- ウ 日本の輸入総額は、過去約50年間増え続けている。
- エ 2016年の輸入額第1位は原油など燃料である。

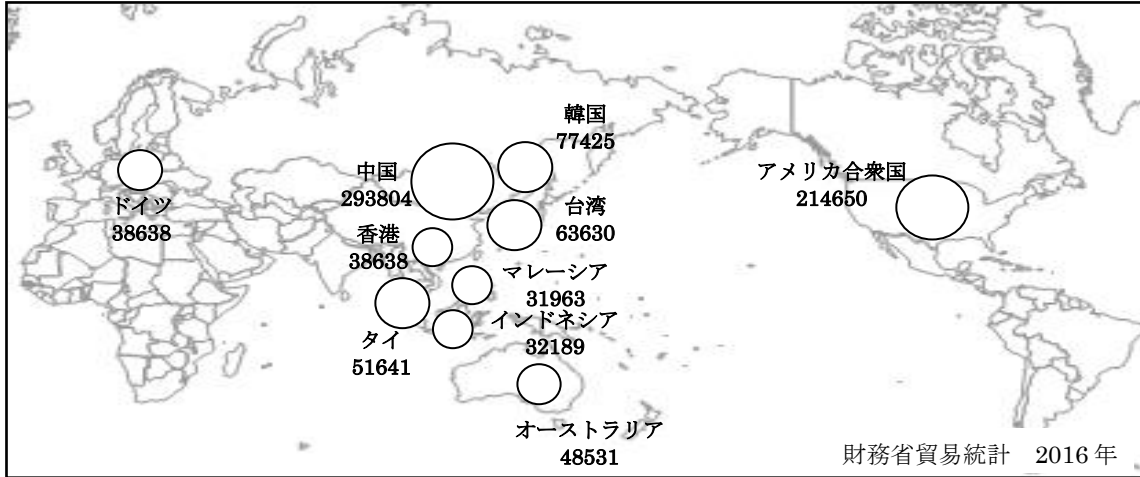
( ) ( )

# 小学校5年社会

組 番 氏名

## 1

下の図とグラフを見て、あとの問いに答えましょう。



数字は輸出入総額で、単位は億円

図1 日本のおもな貿易相手国

(1) 図1は、日本のおもな貿易相手国を表しています。日本の貿易相手国の第1～5位の国をそれぞれ書きましょう。

- 第1位 ( **中国** )
- 第2位 ( **アメリカ合衆国** )
- 第3位 ( **韓国** )
- 第4位 ( **台湾** )
- 第5位 ( **タイ** )

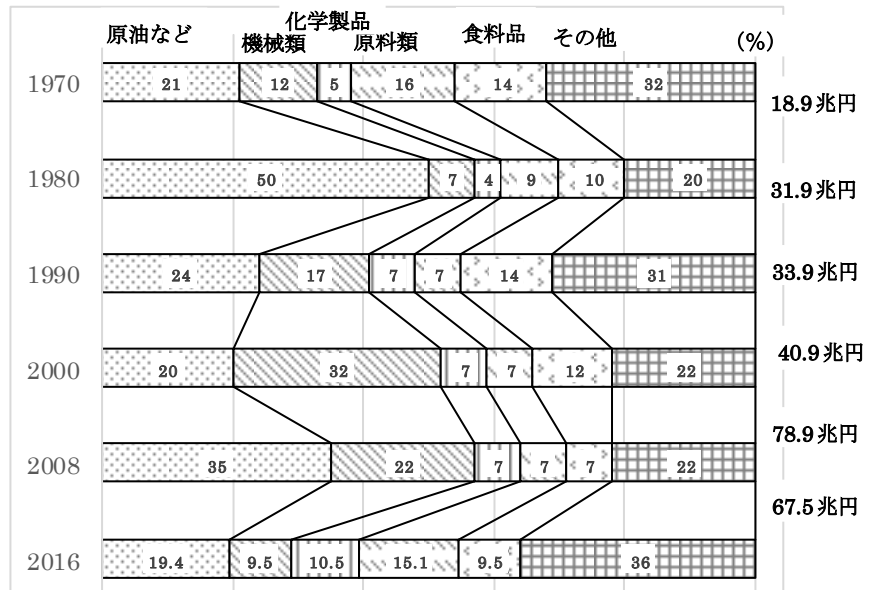


図2 主な輸入品の取り扱い額のわりあいの変化 (通商白書 貿易統計)

(2) 図2は日本の主な輸入品の<sup>あつか</sup>取り扱い額のわりあいの変化を表しています。このグラフから読み取れることとして正しいものを、次から2つ選びましょう。

- ア 原油などの燃料の輸入額のわりあいは、1980年をピークに下がり続けている。
- イ 2008年には、機械類の輸入額のわりあいが1980年のおよそ3倍になっている。
- ウ 日本の輸入総額は、過去約50年間増え続けている。
- エ 2016年の輸入額第1位は原油など燃料である。

( **イ** ) ( **エ** )

# 小学校5年社会

組 番 氏名

## 1

日本の工業の種類について、あとの問いに答えましょう。

(1) 次の①～⑥の工業でつくられる製品を下の  から選んで書きましょう。

- ①食料品工業 ( ) ( )
- ②せんい工業 ( ) ( )
- ③金属工業 ( ) ( )
- ④化学工業 ( ) ( )
- ⑤機械工業 ( ) ( )
- ⑥木材・紙・印刷工業 ( ) ( )

パン トイレットペーパー 自動車 合成洗剤 鉄道のレール タオル  
カメラ アルミニウム しょうゆ くつ下 ラップ 本

(2) 次の文の ( ) にあてはまる言葉を下の□から選んで、書きましょう。

- ① 工業の種類は、大きく重化学工業と軽工業とに分けることができます。重化学工業は、(㊦ ) 工業、(㊧ ) 工業、化学工業などがあります。軽工業は、(㊨ ) 工業、木材・紙・印刷工業、(㊩ ) 工業などがあります。

せんい 機械 食料品 金属

- ② 日本の工業は130年ほど前から (㊪ ) 工業を中心に、軽工業がさかんになりました。その後、(㊫ ) 製鉄所などがつくられ、金属工業・機械工業を中心に重工業がめざましく発展しました。現在では、(㊬ ) やコンピュータなどを中心に、機械工業がさかんになっています。

自動車 せんい 八幡



鉄を加工する県内の工場の様子

# 小学校5年社会

組 番 氏名

## 1

日本の工業の種類について、あとの問いに答えましょう。

(1) 次の①～⑥の工業で作られる製品を下の  から選んで書きましょう。

- ①食料品工業 ( パン ) ( しょうゆ )
- ②せんい工業 ( タオル ) ( くつ下 )
- ③金属工業 ( 鉄道のレール ) ( アルミニウム )
- ④化学工業 ( 合成洗剤 ) ( ラップ )
- ⑤機械工業 ( 自動車 ) ( カメラ )
- ⑥木材・紙・印刷工業 ( トイレットペーパー ) ( 本 )

それぞれ順不同

パン トイレットペーパー 自動車 合成洗剤 鉄道のレール タオル  
カメラ アルミニウム しょうゆ くつ下 ラップ 本

(2) 次の文の ( ) にあてはまる言葉を下の□から選んで、書きましょう。

- ① 工業の種類は、大きく重化学工業と軽工業とに分けることができます。重化学工業は、(㊦ 機械 ) 工業、(㊧ 金属 ) 工業、化学工業などがあります。  
㊦、㊧は 順不同  
 軽工業は、(㊨ せんい ) 工業、木材・紙・印刷工業、(㊩ 食料品 ) 工業などがあります。

㊨、㊩は 順不同

せんい 機械 食料品 金属

- ② 日本の工業は130年ほど前から (㊦ せんい ) 工業を中心に、軽工業がさかんになりました。その後、(㊧ 八幡 ) 製鉄所などがつくられ、金属工業・機械工業を中心に重工業がめざましく発展しました。現在では、(㊨ 自動車 ) やコンピュータなどを中心に、機械工業がさかんになっています。

自動車 せんい 八幡



鉄を加工する県内の工場の様子