

# 算数 1

2月

## 学年末テスト

ポピーをした日 月 日 [25分でやろう]

名前

5年

点

1 かけ算をしなさい。

[8] 1つ4

① 
$$\begin{array}{r} 1.3 \\ \times 4.8 \\ \hline \end{array}$$

② 
$$\begin{array}{r} 6.25 \\ \times 3.6 \\ \hline \end{array}$$

2 1 mの重さが0.34 kgのはり金があります。このはり金 4.5 mの重さは何 kgですか。

[8] 1つ4

(式)

答え ( )

3 ①は、わりきれるまで計算をし、②は、商を一の位まで求めて、あまりも出さない。

[8] 1つ4

① 
$$6.2 \overline{) 27.9}$$

② 
$$1.8 \overline{) 46.85}$$

4 面積が27 m<sup>2</sup>の長方形の形をした花だんをつくります。横の長さを7.5 mとすると、花だんのたての長さは何 mにすればいいですか。

[8] 1つ4

(式)

答え ( )

5 右の2つの三角形は合同です。

[12] 1つ4

① 頂点B<sup>ちやうてん</sup>に対応する頂点を答えなさい。

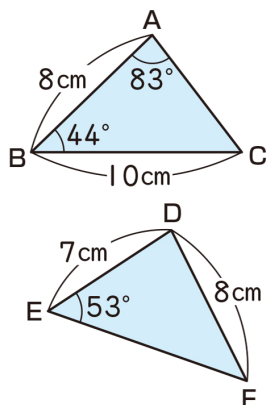
( )

② 角Cの大きさは何度ですか。

( )

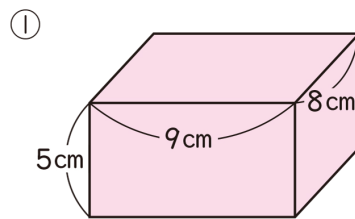
③ 辺EFの長さは何 cmですか。

( )

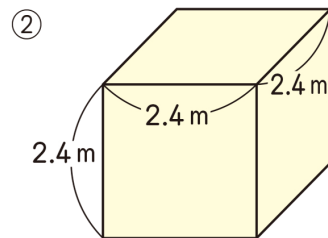


6 次の直方体と立方体の体積を求めなさい。

[16] 1つ4



(式)



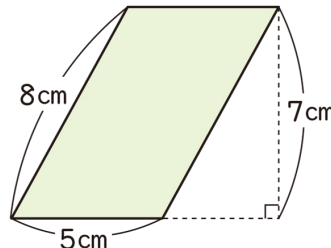
(式)

答え ( )      答え ( )

7 次の図形の面積を求めなさい。

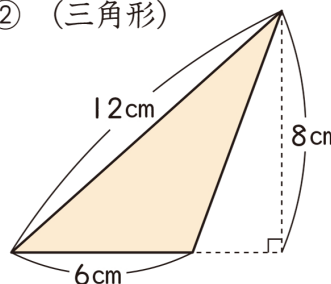
[24] 1つ4

① (平行四辺形) (式)



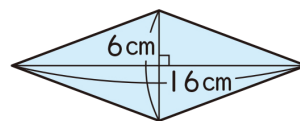
答え ( )

② (三角形) (式)



答え ( )

③ (ひし形) (式)



答え ( )

8 小数で表した割合を百分率で、百分率で表した割合を小数で表しなさい。

[8] 1つ4

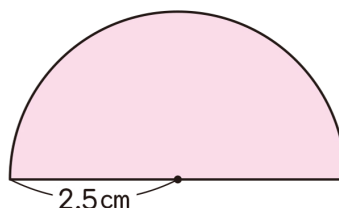
① 0.57      ② 9%

( )      ( )

9 次の図形のまわりの長さを求めなさい。

[8] 1つ4

(式)



答え ( )