

# 小学校5年社会

組 番 名前

山本さんたちは、日本の自動車工場について調べました。  
次の【話し合いの一部】と【主な自動車工場の分布】を見て、あとの問いに答えましょう。

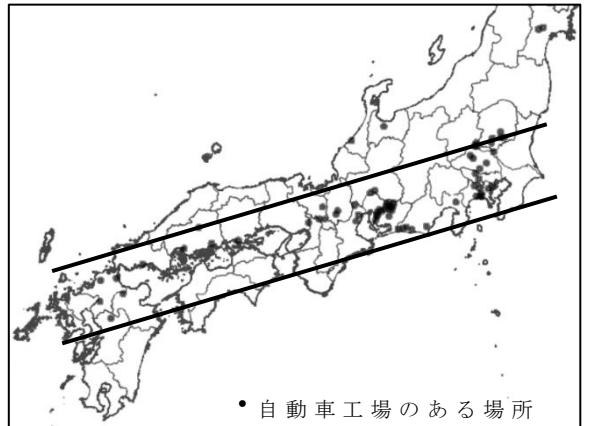
### 【話し合いの一部】

山本さん 【主な自動車工場の分布】を見ると、自動車工場の多くが、関東地方の南部から、九州地方の北部にかけての海ぞいに集まっていることが分かります。

上田さん この地帯を A といいます。この地帯の工業生産額は日本全体の2分の1をしめています。

下川さん しかし、どうしてこの地いき  
に自動車工場が集まっている  
のでしょうか。

### 【主な自動車工場の分布】



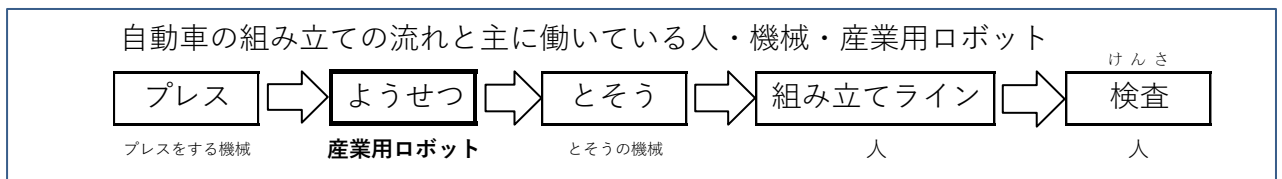
※ 国土地理院の白地図をもとに作成

(1) 【話し合いの一部】の A の地帯の名前を書きましょう。

(2) 【話し合いの一部】の——線部の下川さんの問いについて、外国との関わりに着目して答えましょう。

この地いきに自動車工場が集まっている理由は

(3) 日本の自動車工場では、産業用ロボットをたくさん使って作業しています。産業用ロボットを使うとどのようなよいことがあるかを書きましょう。



# 小学校5年社会

組 番 名 前

山本さんたちは、日本の自動車工場について調べました。

次の【話し合いの一部】と【主な自動車工場の分布】を見て、あとの問いに答えましょう。

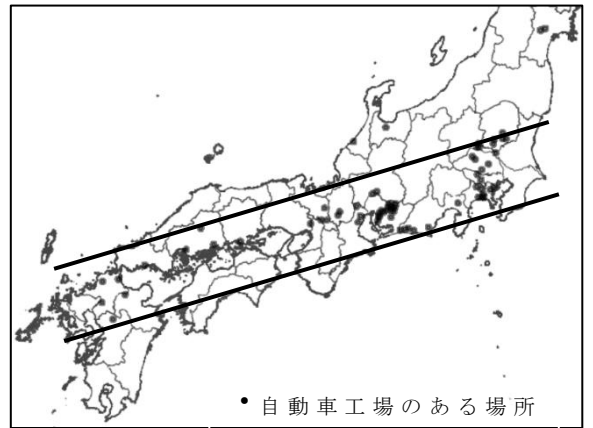
### 【話し合いの一部】

山本さん 【主な自動車工場の分布】を見ると、自動車工場の多くが、関東地方の南部から、九州地方の北部にかけての海ぞいに集まっていることが分かります。

上田さん この地帯を A とい がく います。この地帯の工業生産額は日本全体の2分の1をしめています。

下川さん しかし、どうしてこの地いき  
に自動車工場が集まっている  
のでしょうか。

### 【主な自動車工場の分布】



※ 国土地理院の白地図をもとに作成

(1) 【話し合いの一部】の A の地帯の名前を書きましょう。

太平洋ベルト

(2) 【話し合いの一部】の —— 線部の下川さんの問いについて、外国との関わりに着目して答えましょう。

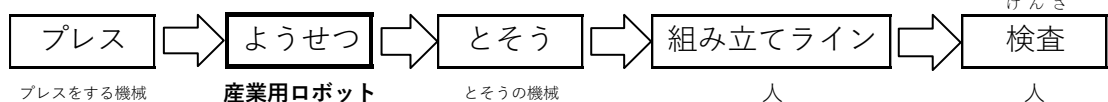
この地いきに自動車工場が集まっている理由は

- (例) ・海に面している場所は、原材料や燃料を船で運んでくるのに便利だから。
- ・工場ですでた製品を輸出しやすいから。

※ どれかを書いていれば正答とする。

(3) 日本の自動車工場では、産業用ロボットをたくさん使って作業しています。産業用ロボットを使うとどのようなよいことがあるかを書きましょう。

自動車の組み立ての流れと主に働いている人・機械・産業用ロボット



- (例) ・作業する人が少なくてすむ。
- ・早くたくさん生産できる。
- ・危険な作業を人が行わなくてすむ。

※ 作業の効率化・生産量の増加・安全性について書いていれば正答とする。