


小学校5年生	組	番	名前
社 会			

1 下の の中から、次の国旗にあたる国の名前を選んで、記号で答えましょう。

【アジア・ヨーロッパ】




①



②




③



④



⑤



⑥



⑦



⑧



⑨

ア 中華人民共和国	イ フランス	ウ ロシア連邦	エ インド
オ サウジアラビア	カ イタリア	キ 大韓民国	ク イギリス
ケ ドイツ			


小学校5年生	組	番	名前
社 会			

1 下の の中から、次の国旗にあたる国の名前を選んで、記号で答えましょう。

【アジア・ヨーロッパ】



① ク




② イ




③ ケ



④ カ



⑤ ウ



⑥ キ



⑦ オ



⑧ エ



⑨ ア

ア 中華人民共和国	イ フランス	ウ ロシア連邦	エ インド
オ サウジアラビア	カ イタリア	キ 大韓民国	ク イギリス
ケ ドイツ			

小学校5年生	組	番	名前
社 会			

1 下の□の中から、次の国旗にあたる国の名前を選んで、記号で答えましょう。

【 アフリカ 】

【 オセアニア 】



① □



② □



③ □

【北アメリカ・南アメリカ】



④ □



⑤ □



⑥ □



⑦ □



⑧ □

ア	アメリカ合衆国	イ	エジプト	ウ	オーストラリア
エ	カナダ	オ	アルゼンチン	カ	ニュージーランド
キ	ブラジル	ク	南アフリカ共和国		

小学校5年生	組	番	名前
社 会			

1 下の□の中から、次の国旗にあたる国の名前を選んで、記号で答えましょう。

【 アフリカ 】

【 オセアニア 】



① ク



② イ




③ ウ

【北アメリカ・南アメリカ】



④ カ



⑤ ア



⑥ エ



⑦ キ

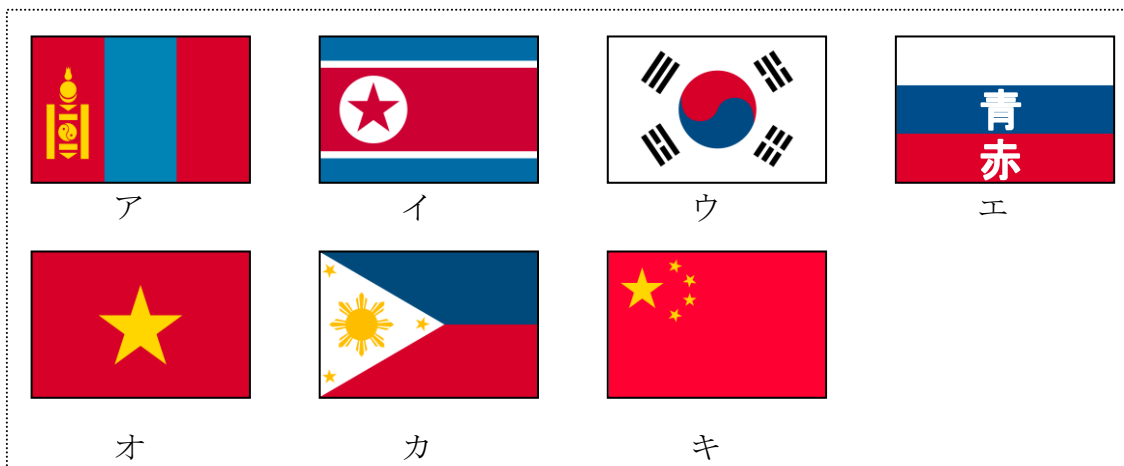
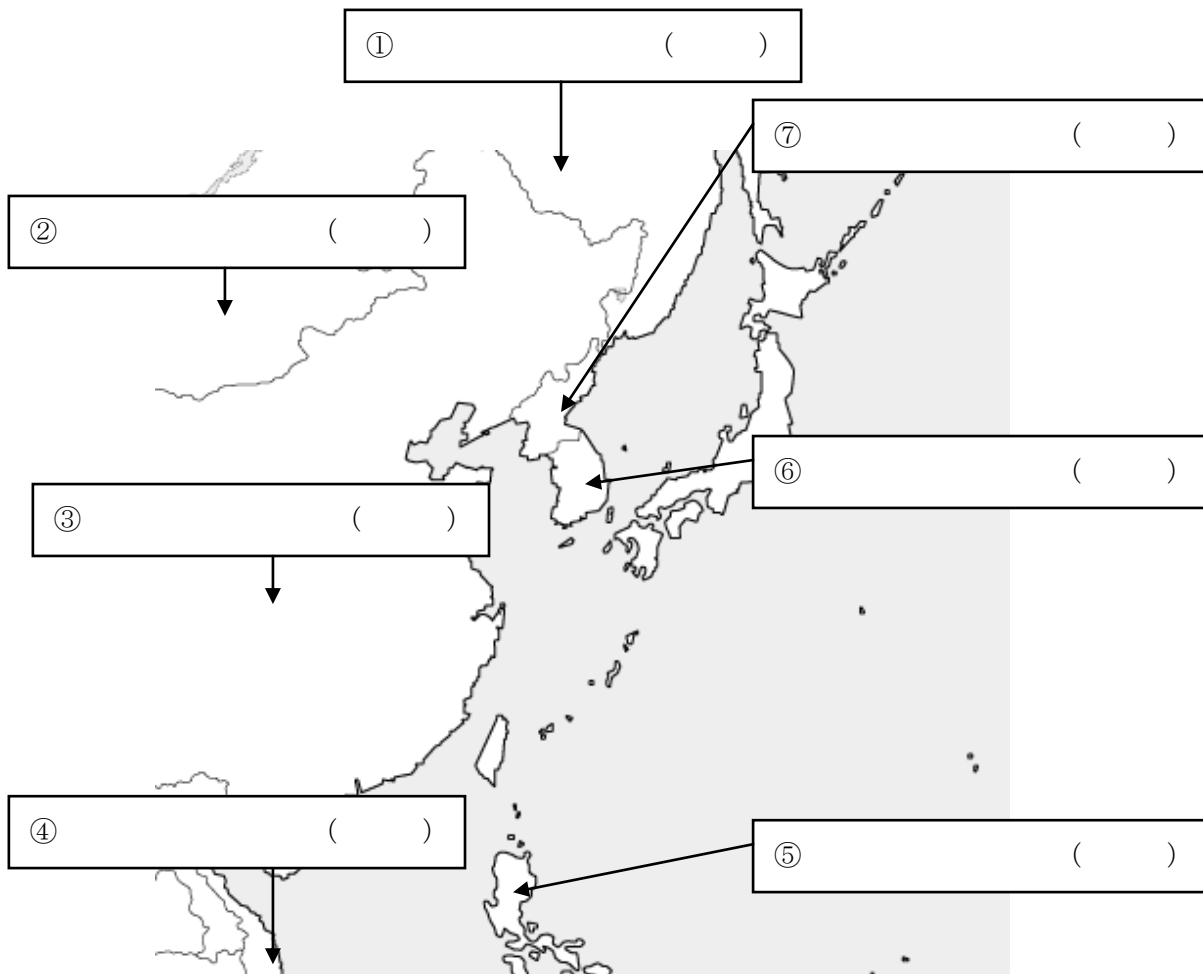


⑧ オ

ア	アメリカ合衆国	イ	エジプト	ウ	オーストラリア
エ	カナダ	オ	アルゼンチン	カ	ニュージーランド
キ	ブラジル	ク	南アフリカ共和国		

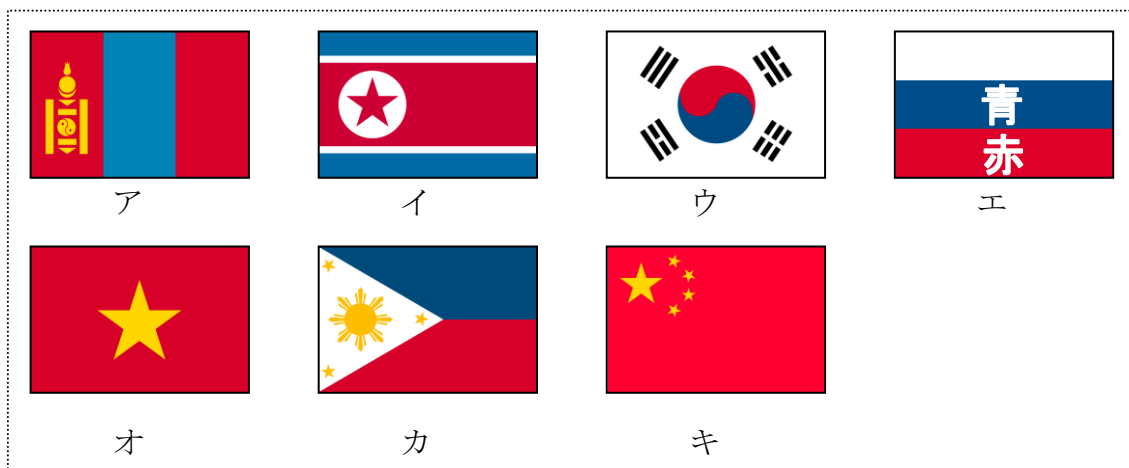
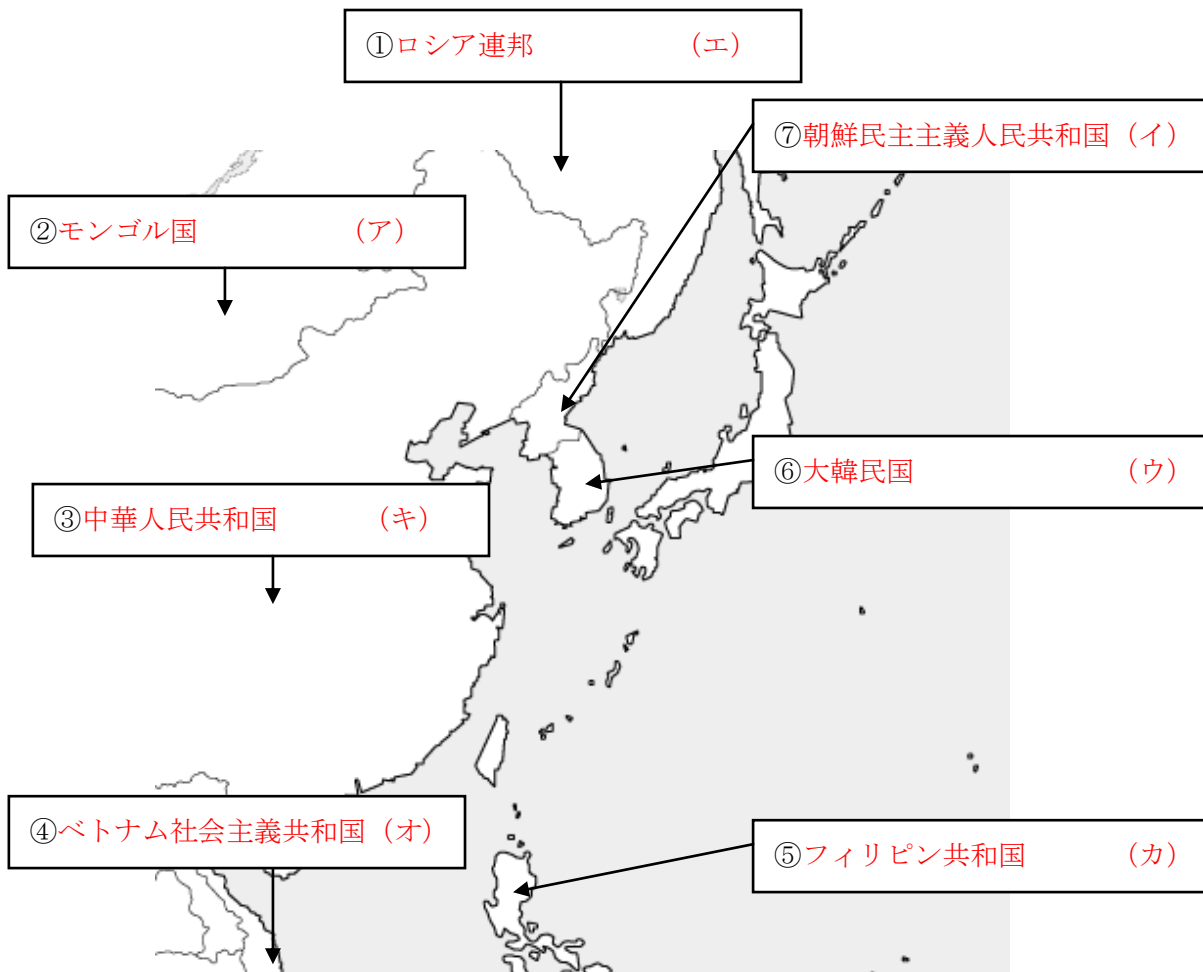
小学校5年生	組	番	名前
社 会			

1 次の①～⑦に当てはまる国名を の中に書き、国旗を下の の中
 のア～キから選んで、() の中に記号を書きましょう。



小学校5年生	組	番	名前
社 会			

1 次の①～⑦に当てはまる国名を の中に書き、国旗を下の の中
 のア～キから選んで、() の中に記号を書きましょう。

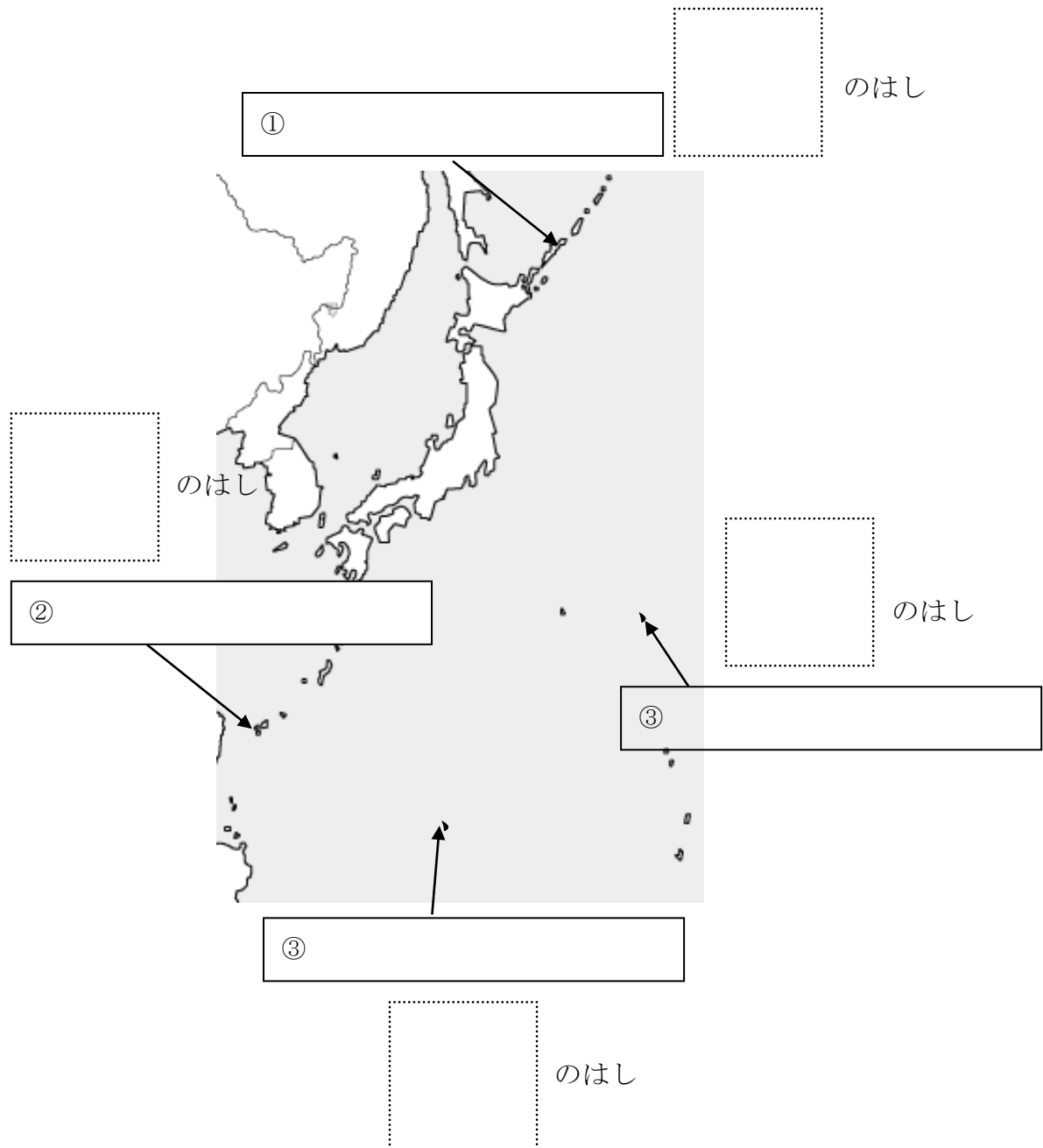


小学校5年生	組	番	名前
社 会			

1 日本の国土の東西南北のはしについて、次の問題に答えましょう。

(1) それぞれの島名を の①～④の中に書きましょう。

(2) 東西南北を、 に書きましょう。



小学校5年生	組	番	名前
社 会			

1 日本の国土の東西南北のはしについて、次の問題に答えましょう。

(1) それぞれの島名を の①～④の中に書きましょう。

(2) 東西南北を、 に書きましょう。

