
















2年生算数 ふくしゅう4 (答え)

① 川で、石ひろいを しました。ひょうを 見て 答えましょう。

ひろった 石の 数 (こ)

				
				
				
				
				
Y 先生	G 先生	A 先生	E 先生	校長先生

①A 先生は、何こ ひろいましたか。 3こ

②いちばん 多く ひろった 先生は 何先生でしょう。 校長先生

③Y 先生は、E 先生より 何こ 多く ひろったでしょう。 3こ

④みんなで 何この 石を ひろったでしょう。 15こ