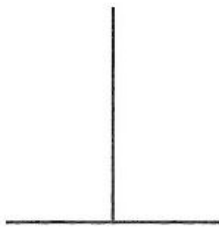


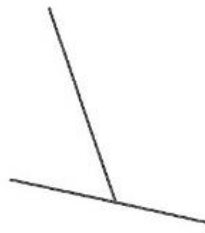
4年生算数 復習02 (答え)

① 2本の直線が垂直なのはどれですか。記号を選びましょう。


ア



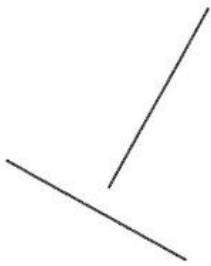
イ



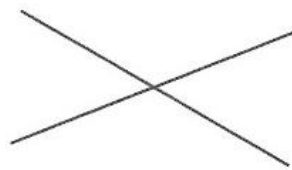
ウ



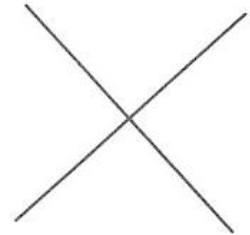
エ



オ



カ

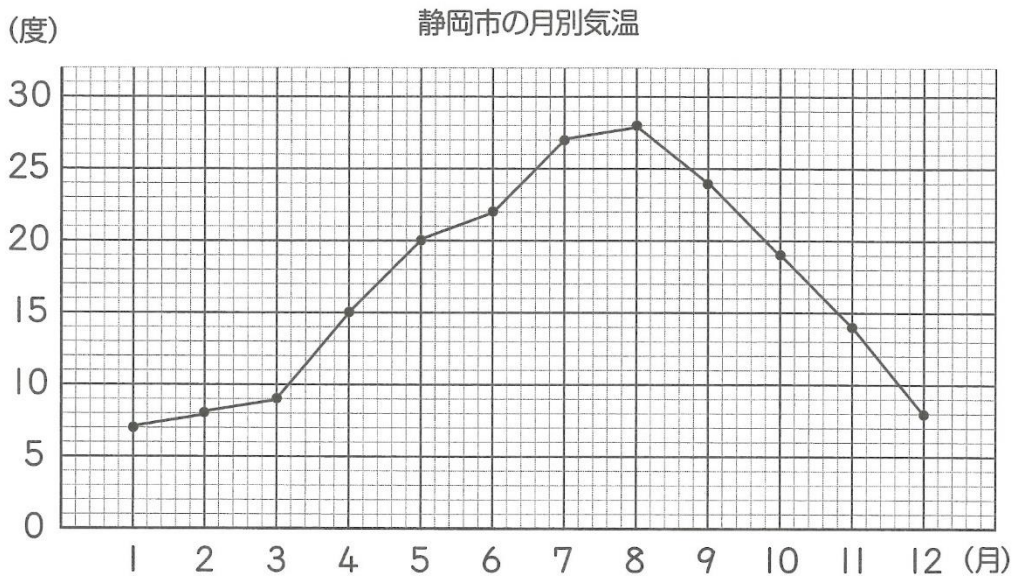


② 次のわり算を筆算で計算しましょう。あまりのある計算は、あまりも出しましょう。

① $64 \div 32$ 2 ② $99 \div 33$ 3 ③ $78 \div 24$ 3あまり6 ④ $87 \div 20$ 4あまり7

⑤ $69 \div 34$ 2あまり1 ⑥ $94 \div 47$ 2 ⑦ $82 \div 39$ 2あまり4 ⑧ $75 \div 25$ 3

② 静岡市の月別気温を折れ線グラフで表しました。次の問いに答えましょう。



① 5月、7月、11月の気温は、それぞれ何度 (°C) ですか。

5月 20度 (°C)、 7月 27度 (°C)、 11月 14度 (°C)

② 気温が8度 (°C)なのは、何月と何月ですか。 2月と12月

③ 気温がいちばん高いのは、何月で何度 (°C) ですか。 8月 28度 (°C)

④ 気温がいちばん低いのは、何月で何度 (°C) ですか。 1月 7度 (°C)

⑤ 気温の上がり方がいちばん大きいのは、何月から何月ですか。 1月から4月

⑥ 気温の下がり方がいちばん小さいのは、何月から何月ですか。 8月から9月