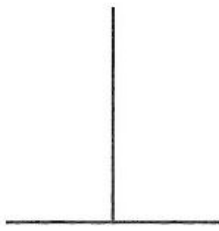


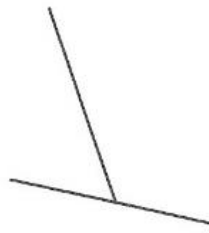
4年生算数 復習 02

① 2本の直線が垂直なのはどれですか。記号を選びましょう。


ア



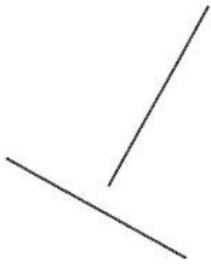
イ




ウ



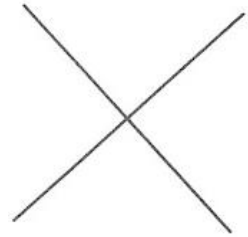
エ



オ



カ



② 次のわり算を筆算で計算しましょう。あまりのある計算は、あまりも出しましょう。

① $64 \div 32$

② $99 \div 33$

③ $78 \div 24$

④ $87 \div 20$

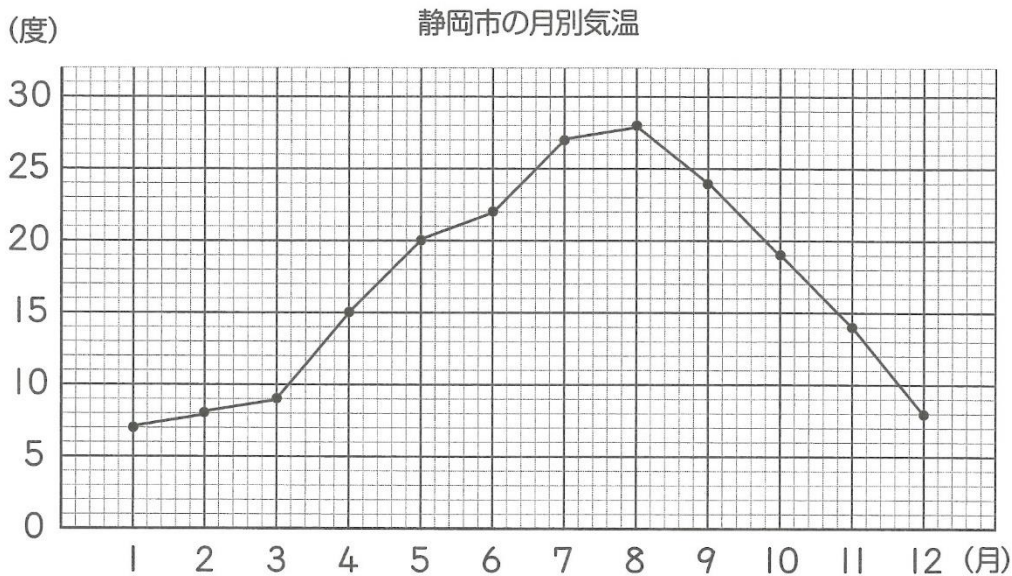
⑤ $69 \div 34$

⑥ $94 \div 47$

⑦ $82 \div 39$

⑧ $75 \div 25$

② 静岡市の月別気温を折れ線グラフで表しました。次の問いに答えましょう。



① 5月、7月、11月の気温は、それぞれ何度ですか。

② 気温が8°Cなのは、何月と何月ですか。

③ 気温がいちばん高いのは、何月で何度ですか。

④ 気温がいちばん低いのは、何月で何度ですか。

⑤ 気温の上がり方がいちばん大きいのは、何月から何月ですか。

⑥ 気温の下がり方がいちばん小さいのは、何月から何月ですか。