

1年生さんすう ふくしゅう2 (こたえ)

1 たしざんとひきざんをしましょう。

①  $3 - 2 = 1$  ②  $8 - 3 = 5$  ③  $6 - 5 = 1$  ④  $7 - 3 = 4$


⑤  $8 - 2 = 6$  ⑥  $9 - 4 = 5$  ⑦  $10 - 5 = 5$  ⑧  $10 - 2 = 8$

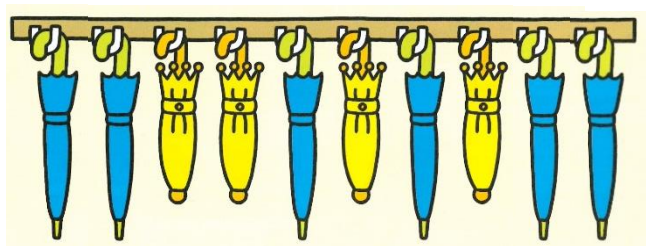
⑨  $10 - 7 = 3$  ⑩  $10 - 4 = 6$  ⑪  $10 - 8 = 2$  ⑫  $10 - 3 = 7$

⑬  $7 + 2 = 9$  ⑭  $8 + 3 = 11$  ⑮  $6 + 6 = 12$  ⑯  $5 + 8 = 13$



⑰  $1 + 10 = 11$  ⑱  $8 + 7 = 15$  ⑲  $5 + 5 = 10$  ⑳  $7 + 7 = 14$

2 かさが10ぽんあります。

 は6ぽんです。  はなんぽんありますか。



しき  $10 - 6 = 4$       こたえ 4ぽん

3  は、 よりなんぽんおおいでしょうか。



しき  $10 - 7 = 3$       こたえ 3ぽんおおい