

◎時代区分

○時代区分を確認しよう！！ 旧石器時代→新石器時代→縄文→（ ）→（ ）→（ ）→奈良→（ ）
→鎌倉→（ ）→安土桃山→（ ）→明治→大正→昭和→平成→令和

○時代や年代の表し方を確認しよう！！

例 ①2000年→西暦（せいれき） ②平成28年→元号（げんごう） ③古代→時代

問題 次の西暦の年は、それぞれ何世紀ですか。

① 593年→（ ）世紀 ②1192年→（ ）世紀 ③紀元前202年→紀元前（ ）世紀

問題 10世紀は、西暦何年から何年までですか。

→（ ）年から（ ）年まで

問題 次の年をそれぞれ元号を使って表しましょう。

① 1945年→昭和（ ）年 ②1990年→平成（ ）年

問題 あなたが生まれた年を①世紀、②西暦、③元号で表しましょう。

① 世紀→（ ）世紀 ②西暦→（ ）年 ③元号→（ ）年



◎人類の登場から文明の発生へ

表で確認 下の表中の①～⑤にあてはまる語句を、次から1つずつ選びなさい。 【 新^{しんじん}人 猿^{まんじん}人 原^{げんじん}人 文字 火 道具 】

人類の祖先	年代	特徴
(①)	約700万年前～	(②)を使うようになる。
(③)	約240万年前～	(④)を使うようになる。
(⑤)	約20万年前～	現代の人類に直接つながる。

(1) 左の表中の①～⑤にあてはまる語句を次から1つずつ選んでみよう！

① () ② () ③ ()
④ () ⑤ ()

(2) 表中の③が仲間に意思を伝えるために、発達させたものは何ですか。
()

(3) 表中の③がつくり始めた、石を打ち砕いた道具をなんといいま
すか。 ()



(4) 人類の祖先が(3)の道具を使って、狩りや採集の生活を行っていた時代を何といいますか。()

(5) 次の①～③にあてはまる場所を右の地図中のア～エから1つずつ選びなさい。

① (3)が発見された岩宿遺跡 () ② (3)が発見された金取遺跡 ()
③ 人骨の化石が発見された山下洞窟

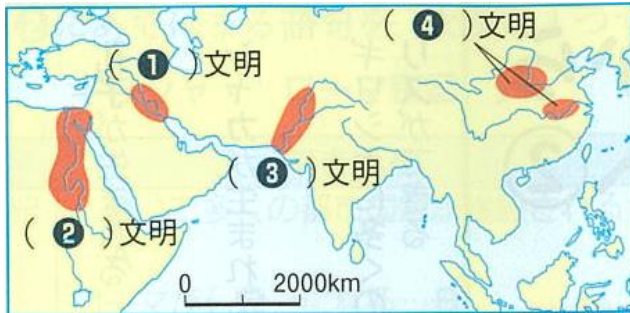


(6) 右の写真のように、石を磨いてつくった道具を何といいますか。()

(7) 約1万年前から始まり、(6)の道具が使われるようになった時代を何といいますか。



◎世界各地で生まれる文明



(1) 左の地図中の①～④にあてはまる語句を、次から1つずつ選びましょう。

① () 文明 ② () 文明

③ () 文明 ④ () 文明

(2) 地図中の①、②の地域は何と呼ばれていましたか。()

(3) 以下の表の空欄を埋めましょう。



文明名	メソポタミア文明	エジプト文明	インダス文明	中国文明
時期	紀元前3500年ごろ			紀元前1600年ごろ
河川		ナイル川	インダス川	
建築	日干しレンガの神殿			大きな宮殿
文字		象形文字(神聖)	インダス文字	
その他の特徴	<ul style="list-style-type: none"> ・太陰暦 ・六十進法 ・1週7日制 ・青銅器 	<ul style="list-style-type: none"> ・ ・十進法 ・測量術 	<ul style="list-style-type: none"> ・都市の整備 	<ul style="list-style-type: none"> ・鉄器 ・殷(いん)という国が栄えた。

◎確認問題を解いてみよう!

・人類が進化して、火・言葉を使い出したのは、() のときである。

・1782年は、() 世紀である。

・古墳時代の次は() 時代である。

・ナイル川流域で起こった文明は() 文明である。

・亀の甲や牛の骨に記された文字を() 文字である。

◎東・南アジアの文明の広がり

年代	できごと
紀元前1100ごろ	殷が(①)にほろぼされる……A
前8世紀ごろ	(①)がおとろえる ↓ 戦乱の時代………B
前221	(②)が中国を統一する………C
前202	(③)が中国を統一する

りゅういき

(1) 左の年表中の①～③にあてはまる国を次から1つずつ選びましょう。

(周 倭 漢 秦) ① () ② () ③ ()

(2) 年表中のAについて、殷(いん)は何という川の流域で栄えましたか。()

(3) 年表中のBの時代を何といいますか。

(4) (3)の時代について以下の問いに答えましょう。

①この時代に使われるようになった農具は、青銅ではなくて何でつくられたものですか。()

②この時代に現れ、思いやりの心で行いを正し、生活や政治に取り組むことによって国がよく治まると

言った思想家は誰ですか。またこの教えを何といいますか。思想家 ()

教え ()

(5) 年表中のCについて、次の問いに答えましょう。

①このときの王は誰ですか。()

②右のイラストの建物を答え、作った目的を書きましょう。

建物名 ()

目的 ()



(6) 表中の③の時代にヨーロッパと中国を結ぶ絹織物中心に運んでいた交易路のことを何といいますか。()

◎ヨーロッパで芽生えた文明

年代	できごと
紀元前8世紀ごろ	(①)で多くの都市国家が建設される……A
前1世紀	ローマが(②)になる……B
紀元4世紀	(②)が東西に分裂する

(1) 左の年表中の①、②にあてはまる語句を次から1つずつ選びなさい。

(ペルシャ ギリシャ ローマ帝国) ① () ② ()

(2) 年表中のAについて、以下の問いに答えましょう。

①都市国家のことを何とよいかカタカナで答えましょう。()

②この時代につくられた左の写真の神殿を何といいますか。() 神殿




③都市国家で行われた、成人男子の市民による政治を何といいますか、()

(3) 年表中のBについて、左の闘技場をカタカナで何といいますか。()



◎世界の宗教

○世界の宗教について、下の表の空欄を埋めましょう。

	仏教	キリスト教	イスラム教
開いた人物	 () 紀元前6世紀ごろ (縄文時代)	 () 1世紀はじめ (弥生時代)	() 610年(飛鳥時代)
信仰の対象	なし	神、イエス	唯一の神アラー
主な地域	()	ヨーロッパ	西アジア、()
教典	お経	()	コーラン
施設	寺院	()	モスク
特徴	輪廻(生まれ変わり) ()制度の否定。 	「信じる者は救われる」 ※信者の数 No.1!! 	偶像崇拝の禁止(アラーを絵や像などに現してはいけない) ・1日5回、聖地メッカの方に()を行う。 ・1年に1ヶ月、日中に食事をしない()を行う。 ・一生に一回、聖地メッカに行く。

※他にも、インドで盛んなヒンドゥー教などがあります。



○左の建物は()といい、キリスト教、イスラム教、ユダヤ教の聖地となっています。