


校内たんけんクイズの3回目です。今回は、とくべつ教室の表示クイズです。  
どの教室表示かわかるかな？  
学校に来たらどこにあるかじっさいに見つけてくださいね。


問 次の表示のある教室は、どの教室でしょうか。あてはまる教室名を、下の  
ア～クの中から選んでください。

正解は次のとおりです。正解していましたか？

① 図工室




② 理科室



③ 音楽室



④ 被服室



⑤ 調理室



- ア 被服室（ひふくしつ）
- イ 調理室（ちょうりしつ）
- ウ 学習室（がくしゅうしつ）
- エ 理科室（りかしつ）
- オ 図工室（ずこうしつ）
- カ ランチルーム（らんちるーむ）
- キ パソコン室（ぱそこんしつ）
- ク 音楽室（おんがくしつ）